

امتحان نهاية الفصل الدراسي للصف الخامس (الأساسي / العام)
للعام الدراسي ١٤٣٥هـ / ١٤٣٦هـ - ٢٠١٤م / ٢٠١٥م
الدور - الفصل الدراسي الأول

المادة : الدراسات الاجتماعية الدرجة الكلية للامتحان : ٤٠ درجة زمن الإجابة : ساعة ونصف

اسم الطالب:..... الصف:...../.....

أجب عن جميع الاسئلة الاتية

تنبيه : الأمتحان في (٤) صفحات

السؤال الأول : ضع دائرة حول الرمز الدال على الإجابة الصحيحة من بين البدائل المعطاة أمامك :-

١- يقع سهل الباطنة في :-

أ- سلطنة عمان ب- البحرين ج- قطر د- الإمارات العربية المتحدة

٢- من أمثلة المياه الجوفية :-

أ- الأودية ب- الانهار ج- الابار د- البحيرات

٣- يشير السهم في الشكل الذي أمامك إلى دائرة :-

أ- القطب الشمالي ب- مدار السرطان ج- مدار الجدي د- الأستواء

٤- تستخدم التربة في صناعة :-

أ- النحاس ب- الفخار ج- الفضة د- الذهب

٥- تعرف ملة سيدنا إبراهيم عليه السلام بـ :-

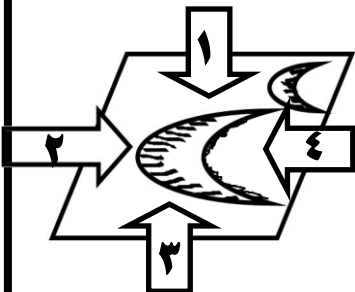
أ- اليهودية ب- النصرانية ج- الوثنية د- الحنيفية

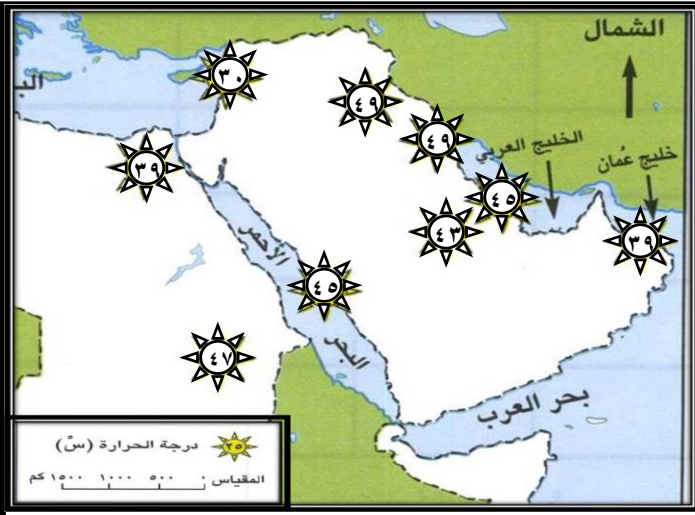
٦- السهم الذي يشكل اتجاه الرياح في تحديد شكل الكثبان الرملية الهلالية يمثل الرقم :-

أ- ١ ب- ٢ ج- ٣ د- ٤

٧- توحد الأوس والخزرج تحت اسم :-

أ- المهاجرين ب- الاحباش ج- الانصار د- اليهود





٨- تبلغ درجة الحرارة في مدينة مسقط في الخريطة

التي امامك :-

ب- ٤٣

أ- ٣٩

ج- ٤٥

د- ٤٧

١٦

السؤال الثاني (٨ درجات)

أولاً:-

١- عرف ما يلي :

أ- الامصار .

.....

.....

ب- حركة الردة .

.....

.....

٢- عدد اثنين من انواع السهول في الوطن العربي ؟

أ-..... ب-.....

ثانياً:-

١- "تهطل الامطار على محافظة ظفار صيفاً فتكتسي الجبال بالأشجار والاعشاب الخضراء" في ضوء

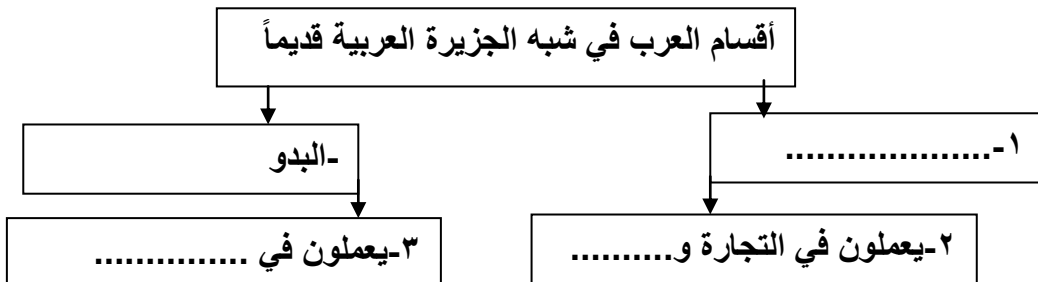
هذه العبارة اقترح حلاً مناسباً لتشجيع السياحة في محافظة ظفار .

.....

.....

.....

ثالثاً:- أكمل المخطط المفاهيمي التالي :-



السؤال الثالث: (٨ درجات)

أولاً:-

١- "عندما تتحرك الكثبان الرملية تصبح خطراً على القرى والمزارع وغيرها " ضع حلاً للحد من زحف الرمال وتحركها.

.....
.....
.....

ثانياً:- أجب عما يلي:-

١- كيف يمكننا استغلال اراضي الهضاب ؟

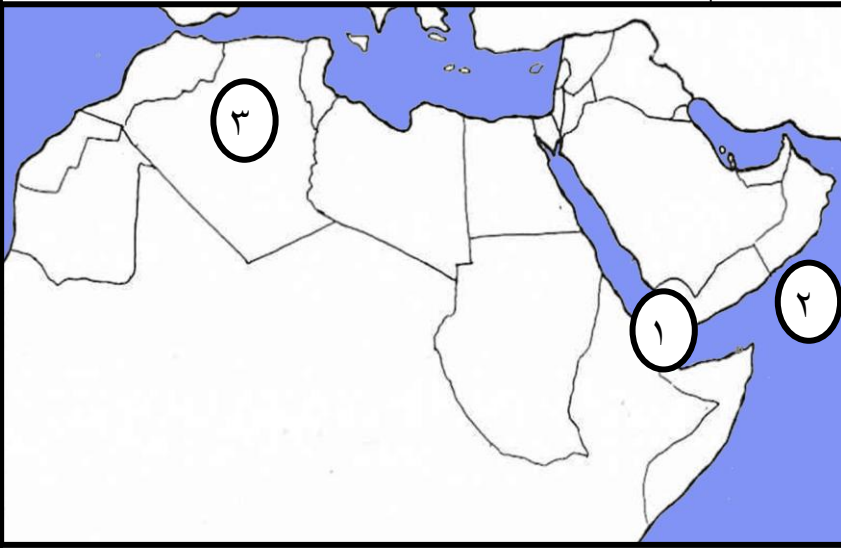
.....
.....
.....

٢- من الأمثلة على الهضاب الصحراوية في سلطنة عمان هضاب محافظة

٣- "لو كنت تعيش في عهد الرسول صلى الله عليه وسلم " هل كنت ستهاجر معه الى المدينة ؟ ولماذا ؟

.....
.....
.....

ثالثاً:- استعن بخريطة الوطن العربي التي أمامك ثم أجب عن الاسئلة الاتية :-



أ- المضيق الذي يشير إليه الرقم (١)
(مضيق.....)

ب- المسطح المائي الذي يشير إليه
الرقم (٢) (بحر.....)

ج- يشير الرقم (٣) إلى أكبر دولة في
الوطن العربي من حيث المساحة
دولة (.....)

٨

السؤال الرابع: (٨ درجات)

أولاً: أجب عما يلي :-

١- وضح أهمية الموقع الجغرافي للوطن العربي ؟ يكتفى بأهمية واحدة.

.....
.....

٢- اذكر اثنين من المشكلات التي تتعرض لها التربة بسبب النشاط البشري ؟

.....
.....
.....

ثانياً:- رتب الاحداث التالية من الاقدم الى الاحداث .

(حجة الوداع - صلح الحديبية - غزوة بدر - غزوة الاحزاب)

.....-١-٢-٣-٤
---------	---------	---------	---------

ثالثاً :-

١- اكتب اسماء حكام الدول التالية:

أ- قيصر الروم(.....) ب-ملك الحبشة (.....)

٢- "تخيل نفسك أحد سكان المناطق الجبلية " ما الحرف التي يمكنك ممارستها ؟

.....
.....

٣- "يعاني الوطن العربي من عجز الموارد المائية " ما دورك في المحافظة على الموارد المائية في السلطنة ؟

.....
.....
.....



نموذج إجابة امتحان نهاية الفصل الدراسي للصف الخامس للتعليم (الأساسي/العام)

للعام الدراسي ١٤٣٥هـ/١٤٣٦هـ - ٢٠١٤/٢٠١٥م

الدور - الفصل الاول

المادة: الدراسات الاجتماعية الدرجة الكلية: ٤٠ درجة تنبيه: نموذج الإجابة في صفتان

إجابة السؤال الأول:- ١٦ درجة (كل مفردة درجتان)

المفردة	البديل الصحيح	الدرجة	الصفحة
١	أ سلطنة عمان	٢	١٩
٢	ج الاپار	٢	٥٦
٣	د الأستواء	٢	١٣
٤	ب الفخار	٢	٦١
٥	د الحنيفة	٢	٧٣
٦	ب ٢	٢	٣٧
٧	ج الأنصار	٢	٨٨
٨	أ ٣٩	٢	٤٤

إجابة السؤال الثاني (٨ درجات يتكون من ثلاث جزئيات)

الجزئية	المفردة	الإجابة الصحيحة	الدرجة	الصفحة
أولاً	١	أ- المدن الجديدة التي بنيت لتكون مركز للجنود.	درجة واحدة فقط	٩٦
		ب- ارتداد بعض القبائل العربية عن الاسلام بعد وفاة الرسول صلى الله عليه وسلم.	درجة واحدة فقط	٩٤
	٢	السهول الساحلية - السهول الرسوبية - السهول الداخلية (يكتفى باثنين)	درجة لكل جزئية نصف درجة	١٨
ثانياً	١	إقامة المهرجانات السياحية (يترك للطالب حرية التعبير بما يتناسب الموضوع)	درجتان فقط	٥٣
ثالثاً	١	١-الحضر ٢- الزراعة ٣- الرعي	ثلاث درجات لكل جزئية درجة	٦٨،٧٠

إجابة السؤال الثالث (٨ درجات يتكون من ثلاث جزئيات)

الصفحة	الدرجة	الإجابة الصحيحة	المفردة	الجزئية
٣٩	درجة واحدة فقط	زراعة الأشجار – عمل مصدات للرياح (يترك للطالب التعبير عن رأيه بما يناسب الموضوع)	١	أولاً
٣١	درجة واحدة فقط	في الزراعة والرعي – استخراج النفط منها – حفر الآبار فيها. (يكتفى بواحد)	١	ثانياً
٣١	درجة واحدة فقط	الوسطى	٢	
٨٥	درجتان فقط	نعم – لأنها بيئة صالحة للدعوة إلى الإسلام حيث تتمتع بالأمن والاستقرار (يترك للطالب التعبير بما يناسب المعنى)	٣	
١٦	درجة واحدة فقط	باب المنذب	أ	ثالثاً
١٦	درجة واحدة فقط	العرب	ب	
١٤	درجة واحدة فقط	الجزائر	ج	

إجابة السؤال الرابع (٨ درجات يتكون من ثلاث جزئيات)

الصفحة	الدرجة	الإجابة الصحيحة	المفردة	الجزئية
١٦	درجة واحدة فقط	- منطقة اتصال بري وبحري بين قارات العالم القديم - تطل على العديد من المحيطات والبحار والخلجان المهمة التي يربط بينهما عدد من المضائق البحرية - سهل موقعه اتصال العرب وإقامة العلاقات التجارية والحضارية مع أنحاء العالم - يعتبر من أهم مناطق تصدير النفط ونقله في العالم . (يكتفى بأهمية واحدة)	١	أولاً
٦١	درجة (لكل مشكلة نصف درجة فقط)	مشكلة الأنجراف – مشكلة الملوحة – مشكلة تدهور خصوبة التربة . (يكتفى بمشكلتين)	٢	ثانياً
٨٨- ٨٩،٩ ٢	درجتان (لكل جزئية نصف درجة)	١- (عزوة بدر ١/٢) ٢- (عزوة الأحزاب ١/٢) ٣- (صلح الحديبية ١/٢) ٤- (حجة الوداع ١/٢)	١	
٩١	درجة (لكل جزئية نصف درجة)	أ- (هرقل ١/٢) ب- (النجاشي ١/٢)	١	
٢٨	درجة واحدة فقط	الرعي – الزراعة – السياحة (يكتفى بمهنة واحدة)	٢	ثالثاً
٥٦	درجتان فقط	الترشيد في استهلاك المياه – استخدام مياه الصرف الصحي المعالجة في الري وأغراض صناعية أخرى.... (يترك للطالب حرية التعبير عن رأيه بما يتناسب مع الموضوع)	٣	

انتهى نموذج الأجوبة