

بِسْمِ اللَّهِ الرَّحْمَنِ الرَّحِيمِ

" رَبِّ اجْعَلْ لِي قَلْبًا حَكِيمًا وَيَسِّرْ لِي أَمْرِي "



المديرية العامة للتربية والتعليم لمحافظة الظاهرة

دائرة القويم التربوي

امتحان نهاية الفصل الدراسي الثاني - الدور الثاني - العام الدراسي ٢٠١٣ / ٢٠١٤ م

الصف: الخامس	المادة: الدراسات الاجتماعية	الزمن: ساعة ونصف	الدرجة: ٤٠ درجة
--------------	-----------------------------	------------------	-----------------

تعليمه:

- الأسئلة في (٧) صفحات .
- الإجابة في نفس الورقة .

رقم السؤال	الدرجة بالأرقام	الدرجة بالحروف	اسم وتوقيع المصحح	ملاحظات
الأول				
الثاني				
الثالث				
الرابع				
المجموع الكلي				



اسم الطالب /

الصف / الشعبة / ()

المدرسة /


امتحان نهاية الفصل الدراسي الثاني - الدور الثاني - العام الدراسي ٢٠١٣ / ٢٠١٤ م
الصف الخامس: المادة: الدراسات الاجتماعية.
السؤال الأول: (الدرجة)

- ((لو كان بيني وبين الناس شعرة ما انقطعت أبداً ، إذا شدوها أرختها ، وإن أرخوها
شدتها)) قائل هذه العبارة الخليفة :

أ) معاوية بن أبي سفيان ب) الوليد بن عبد الملك ج) عمر بن عبد العزيز د) عبد الملك بن مروان
٢- يشير السهم في الخريطة التي أمامك إلى مدينة :



- أ) طرابلس
ب) القيروان
ج) القسطنطينية
د) تاهرت



٣- الصورة في الشكل المقابل تشير إلى :

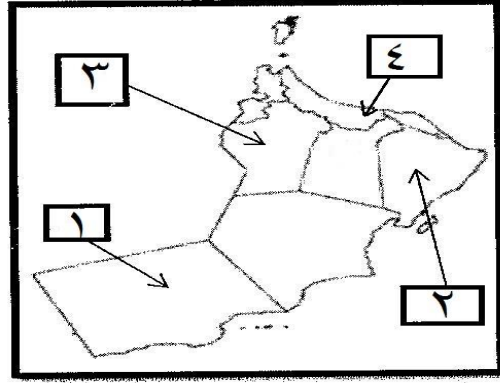
- أ) المسجد الأقصى
ب) المسجد الأموي
ج) مسجد عقبة بن نافع
د) مسجد قبة الصخرة

٤- توسعت الدولة الأموية في حدودها بشكل سريع فوصلت شرقا إلى :

- أ) فرنسا ب) إيطاليا ج) اسبانيا د) الصين

تابع السؤال الأول:

٥- الرقم الذي يشير إلى تركيز أكبر كثافة سكانية في السلطنة هو:



١ (أ)

٢ (ب)


٣ (ج)

٤ (د)

٦- الزيادة غير الطبيعية هي الزيادة الناتجة عن :

(أ) الهجرة (ب) المواليد (ج) الوفيات (د) الكثافة السكانية

٧-:- الرقم الذي يشير إلى طريقة إحداث صوت في قاع البحر لدفع الأسماك للمصائد هو:



١ - أ

٢ - ب

٣ - ج

٤ - د

٨- الشكل الصحيح الذي يوضح إحتياطي النفط في الوطن العربي مقارنة بالإنتاج العالمي هو :-




ب



أ



د



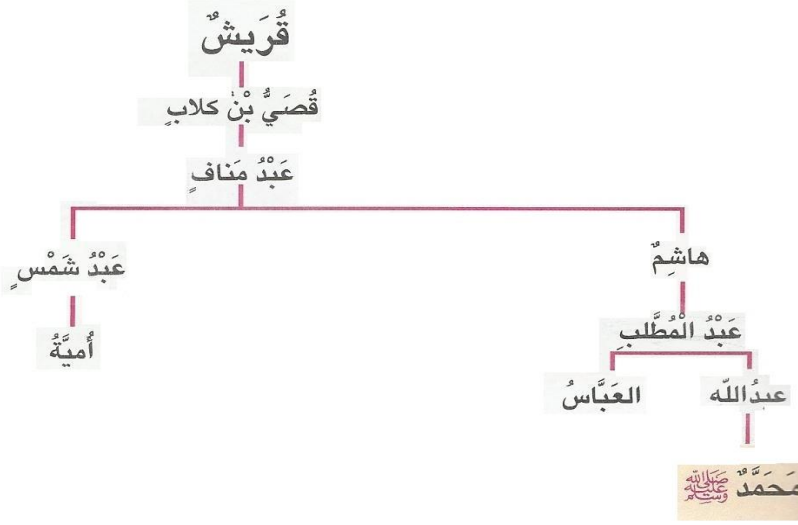
ج

السؤال الثاني: (٨ درجات)

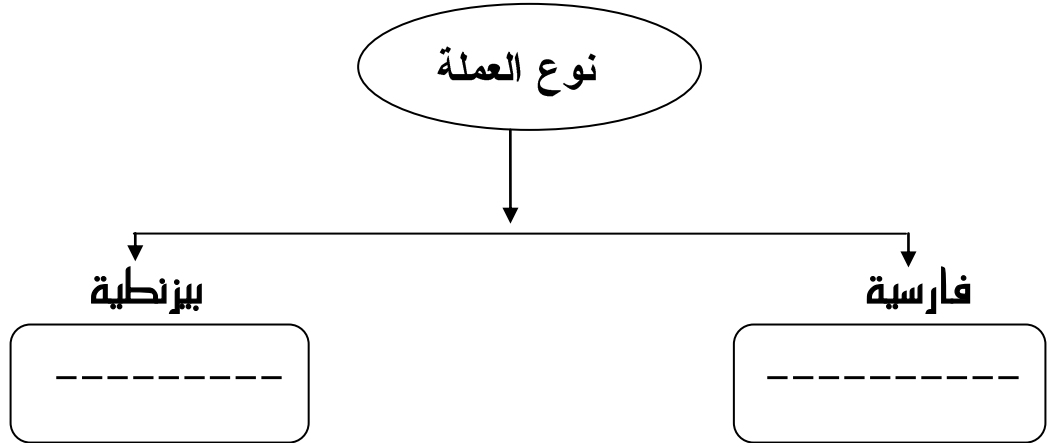
أ- من خلال الشكل الذي أمامك استنتج الجد الذي يلتقي عنده نسب الرسول عليه الصلاة

والسلام ونسب

بني أمية؟



ب- أكمل الناقص في الشكل التالي:



ج- أذكر الدولتين اللتين يطلق عليهما (شبه جزيرة إيبيريا) ؟

.....]

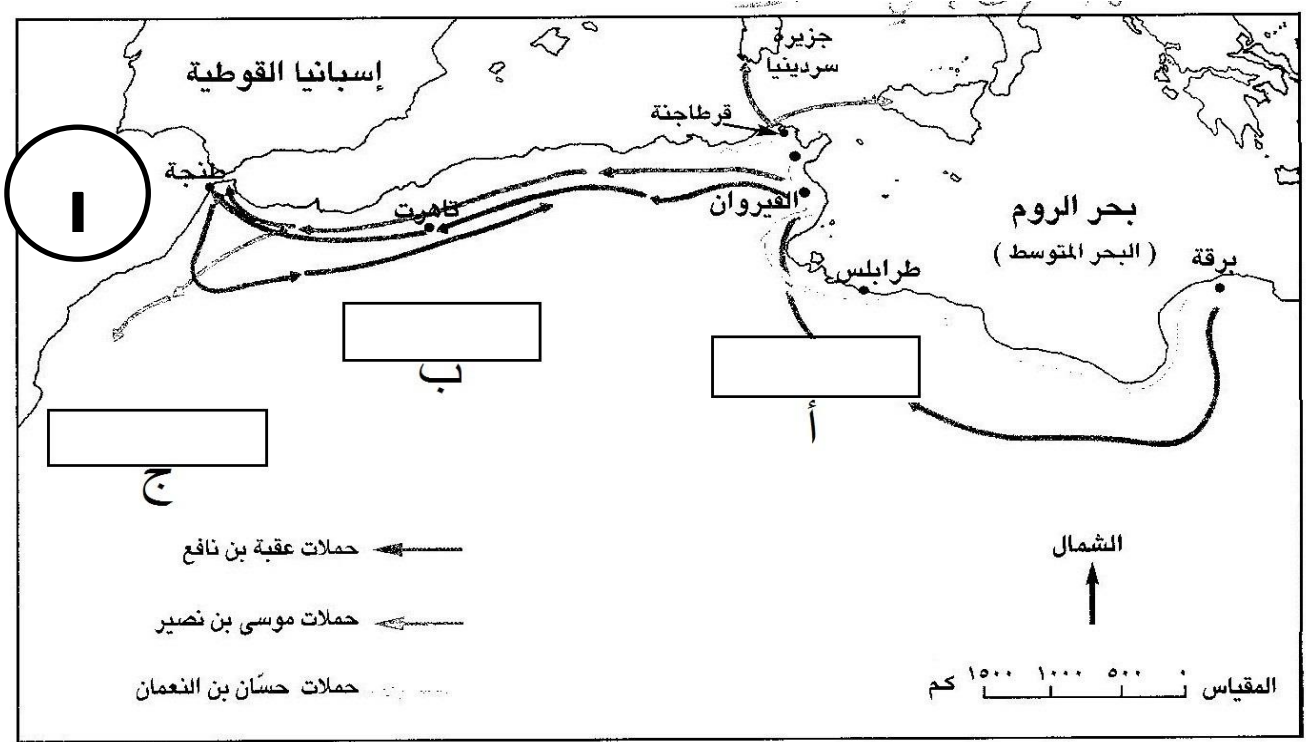
د علل (تخلص مساحات كبيرة من دول الوطن العربي من السكان) ؟

.....

...

السؤال الثالث: (٨ درجات)

ل أدرس الخريطة التالية ثم أجب عن الأسئلة التي تليها ؟



سم المحيط الذي يشير إليه الرقم (١) على الخريطة؟.....

ل رتب على الخريطة بلدان المغرب العربي حسب الموقع الذي تشير إليه الحروف ؟
(المغرب الأوسط ، المغرب الأقصى ، المغرب الأدنى)

بـ مدينة عدد سكانها (١... نسمة) ومساحتها (٥٠٠ كم مربع) أحسب الكثافة السكانية لهذه المدينة؟

.....

.....

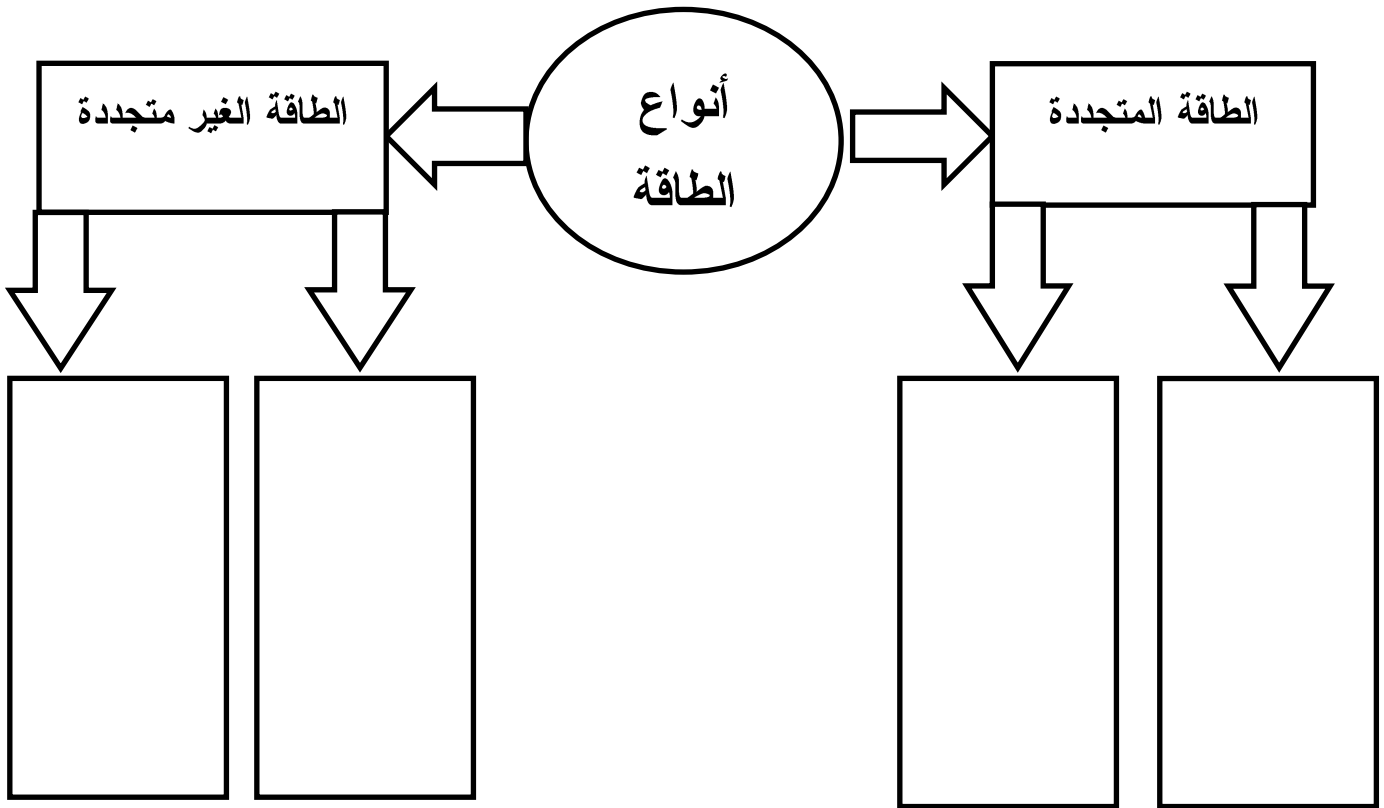
.....

تابع- السؤال الثالث:

ج- أكمل الناقص في الجدول التالي الذي يوضح أهم مشاكل الريف العربي ؟

المشكلة	أسبابها
إنخفاض إنتاجية العمل الريفي	١- نقص المعدات والأدوات الزراعية الحديثة . ٢- ٣-
التصحر	١- ٢-

د- أكتب على الشكل الذي أمامك مثالين لكل نوع من أنواع الطاقة :



السؤال الرابع : (٨ درجات)

١- يتميز كل عصر من عصور الدولة العباسية بمجموعة من المميزات .
صنف المميزات التالية من بين القوسين إلى العصر العباسي الأول والعصر العباسي الثاني كما في الجدول التالي :-
(وحدة الدولة - إقصاء العنصر العربي من الجيش - تفكك الدولة - المنجزات الحضارية)

العصر العباسي الأول	العصر العباسي الثاني
..... - -
..... - -

بد من خلال الجدول الذي أمامك أجب عن الأسئلة التي تليه :

١- أحسب الفرق في تزايد عدد السكان من سنة ١٩٩٠م إلى سنة ...٢٠٠٠م؟

السنة	عدد سكان الوطن العربي (مليون نسمة)
١٩٥٠	٨٣
١٩٦٠	٩٤
١٩٧٠	١٢٢
١٩٨٠	١٦٤
١٩٩٠	٢٢١
٢٠٠٠	٢٩٣


٢- كم عدد السنوات التي يمثلها هذا الجدول من (١٩٥٠م - ...٢٠٠٠م) ؟

تابع - السؤال الرابع :

٣) رتب أشكال التعاون التالية تصاعديا :

- أ) التعاون بين الدول والشعوب. ()
ب) التعاون بين الجيران وأهل الحي. ()
ج) التعاون بين أهل القرى والمدن. ()
د) التعاون بين أفراد الأسرة والأقارب. (١)
هـ) التعاون بين جميع المواطنين. ()

٤) ارسم في المربع شعارا أو شكلا يدل على مكان وقوف ذوي الاحتياجات الخاصة ؟



،، إنتهت الأسئلة مع تمنياتنا للجميع بالتوفيق والنجاح ،،

بِسْمِ اللَّهِ الرَّحْمَنِ الرَّحِيمِ
" رَبِّ اجْعَلْ لِي قَلْبًا حَكِيمًا وَيَسِّرْ لِي أَمْرِي "



المديرية العامة للتربية والتعليم لمحافظة الظاهرة
دائرة التقويم التربوي

نموذج إجابة امتحان نهاية الفصل الدراسي الثاني - الدور الثاني - العام الدراسي ٢٠١٣ / ٢٠١٤ م

الصف: الخامس	المادة: الدراسات الاجتماعية	الزمن: ساعة ونصف	الدرجة: ٤٠ درجة
--------------	-----------------------------	------------------	-----------------

إجابة السؤال الأول. (٦ درجة. لكل مفردة درجتان)

رقم المفردة	١	٢	٣	٤	٥	٦	٧	٨
رمز الإجابة	أ	ج	ب	د	د	أ	د	د
الإجابة	معاوية بن أبي سفيان	القسطنطينية	المسجد الأموي	الصين	٤	الهجرة	٤	بقية العالم ٣٨% الوطن العربي ٦٢%
الدرجة	٢	٢	٢	٢	٢	٢	٢	٢
الصفحة	١٠	٢٥	٢٣	٢٥	٥٣	٤٦	٧٣	٨٢

إجابة السؤال الثاني : (٨ درجات)

م	الإجابة	الدرجة	الصفحة
أ	عبد مناف	٢	١١
ب	نوع العملة ----- فارسية	١	٢٠
	نوع العملة ----- بيزنطية	١	
ج	- اسبانيا - - البرتغال	٢	١٧
د	١- لشدة الحرارة والجفاف ٢- نقص الموارد المائية	١	٥٤

إجابة السؤال الثالث : (٨ درجات)

أ-

م	الإجابة	الدرجة	الصفحة
١	المحيط الأطلسي	١ نصف درجة	١٥
٢	المغرب الأدنى - المغرب الأوسط - المغرب الأقصى	١ مفردة نصف درجة	١٥

ب-

الصفحة	الدرجة	الإجابة
٥٤	القانون درجة تطبيق المسألة درجة	$\text{الكثافة السكانية} = \frac{\text{عدد السكان}}{\text{المساحة}}$ $٢ = \frac{١٠٠٠}{٥٠٠}$

الصفحة	الدرجة	الإجابة
٥٩	لكل مفردة نصف درجة	<p>انخفاض انتاجية العمل الريفي ← ٢ - انخفاض كفاءة المعدات المستخدمة</p> <p>٣ - قلة الإنتاج وانخفاض الدخل</p> <p>التصحّر ← ١ - الرعي الجائر وتدهور المراعي بسبب الجفاف.</p> <p>٢ - سوء استخدام المياه وتملحها .</p> <p>٣ - تملح التربة وانجرافها. (يكتفى بذكر اثنان فقط)</p>

الصفحة	الدرجة	الطاقة الغير متجددة	الطاقة المتجددة
٨٠	٢ لكل مفردة نصف درجة	<p>- النفط</p> <p>- الغاز</p> <p>- الفحم</p> <p>- الطاقة النووية</p> <p>(يكتفى بذكر مثالين فقط)</p>	<p>- الطاقة الشمسية</p> <p>- الرياح</p> <p>- الأمواج</p> <p>- المد والجزر</p> <p>- المساقط المائية (السدود)</p> <p>(يكتفى بذكر مثالين فقط)</p>

إجابة السؤال الرابع (٨ درجات)

الصفحة	الدرجة	الإجابة	م
ص ٢٧	٢ لكل مفردة	العصر العباسي الأول ← وحدة الدولة - المنجزات الحضارية	أ
ص ٣٠	نصف درجة	العصر العباسي الثاني ← إقصاء العنصر العربي - تفكك الدولة	

ب -

م	الإجابة	الدرجة	الصفحة
١	التزايد ٧٢ مليون نسمة (يكتبى بكتابة النتيجة) $٧٢ = ٢٢١ - ٢٩٣$	١	ص ٤٥
٢	٥٠ سنة	١	

ج -

م	الإجابة	الدرجة	الصفحة
	(أ) التعاون بين الدول والشعوب . (٥) (ب) التعاون بين الجيران وأهل الحي . (٢) (ج) التعاون بين أهل القرى والمدن . (٣) (د) التعاون بين أفراد الأسرة والأقارب . (١) (هـ) التعاون بين جميع المواطنين . (٤)	٢ لكل مفردة نصف درجة ماعداد (د)	٩٢

د -

م	الإجابة	الدرجة	الصفحة
		درجتان	١١

’ نهاية نموذج الإجابة ’

إعداد وحدة إشراف الدراسات الاجتماعية