



بِسْمِ اللَّهِ الرَّحْمَنِ الرَّحِيمِ

" رَبِّهِ أَهْرَغْ لِي حَمْدِي وَيَمِزْ لِي آمُرِي "



المديرية العامة للتربية والتعليم محافظة الظاهرة

امتحان نهاية الفصل الدراسي الثاني - الدور الثاني - العام الدراسي ٢٠١١ / ٢٠١٢ م

الصف: الخامس المادة: الدراسات الاجتماعية الزمن: ساعة ونصف الدرجة: ٤٠ درجة

تنبيه:

- الأسئلة في (خمس) صفحات .
- الإجابة في نفس الورقة .

رقم السؤال	الدرجة بالأرقام	الدرجة بالحروف	اسم وتوقيع المصحح	ملاحظات
الأول				
الثاني				
الثالث				
الرابع				
المجموع الكلي				

اسم الطالب /

الصف / الشعبة / ()

المدرسة /

امتحان نهاية الفصل الدراسي الثاني - الدور الأول - العام الدراسي ٢٠١١ / ٢٠١٢ م
الصف الخامس: المادة: الدراسات الاجتماعية
السؤال الأول: (٦ درجة)

أختر الإجابة الصحيحة من بين البدائل المعطاة بوضع دائرة حول الإجابة الصحيحة :
١- عاصمة الدولة العباسية مدينة :

(أ) بغداد (ب) بيروت (ج) دمشق (د) القدس

٢- يشير السهم في الخريطة التي أمامك إلى مدينة :



(أ) القيروان
(ب) برقة
(ج) طرابلس
(د) القسطنطينية

٣- الصورة في الشكل المقابل تشير إلى :



(أ) المسجد الأقصى
(ب) المسجد الأموي
(ج) مسجد قبة الصخرة
(د) مسجد عقبة بن نافع

٤- تمكن المغول من القضاء على الحكم العباسي في سنة :

(أ) ٦٥٣هـ (ب) ٦٥٤هـ (ج) ٦٥٥هـ (د) ٦٥٦هـ

٥- من خلال الخريطة يتركز السكان في مصر في المنطقة المشار إليها بالرقم :

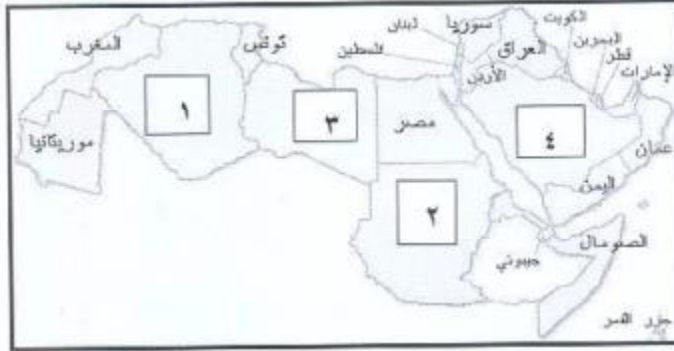


- (أ) ١
(ب) ٢
(ج) ٣
(د) ٤

٦- يوصف النمو السكاني بأنه مرتفع إذا كانت النسبة أكثر من :

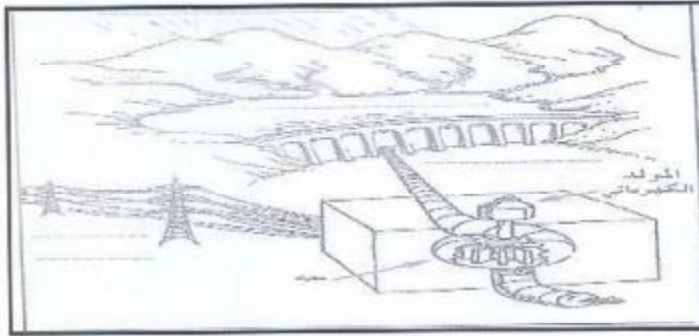
- (أ) ١,٥% (ب) ٢,٥% (ج) ٣,٥% (د) ٤,٥%

٧- توجد واحدة بريده في الدولة المشار إليها بالرقم :



- (أ) ١
(ب) ٢
(ج) ٣
(د) ٤

٨- الشكل التالي يوضح عملية إنتاج الطاقة الكهربائية عن طريق :



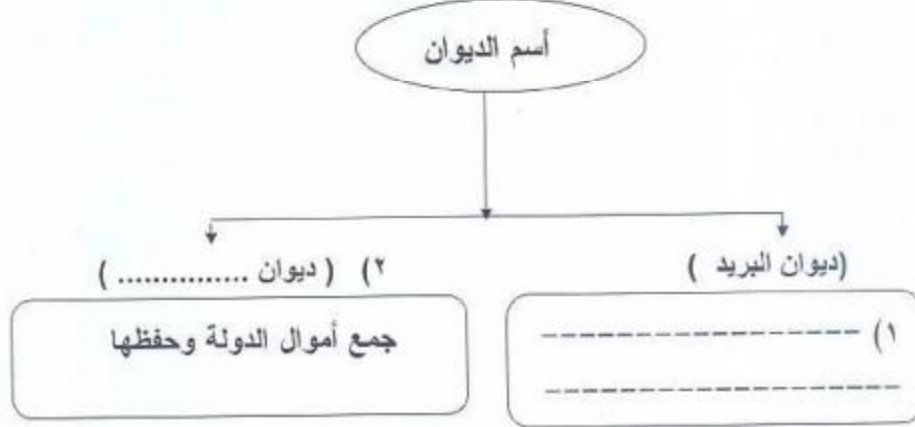
- (أ) مياه السدود
(ب) الطاقة الشمسية
(ج) الغاز الطبيعي
(د) طاقة الرياح

السؤال الثاني: (٨ درجات)

أ- تقع مدينة القسطنطينية بين قارتين أذكرهما؟

و

ب- أكمل الناقص في الشكل التالي الذي يوضح أسم الديوان ووظيفته :



ج- بما تفسر تنوع المحاصيل الزراعية في الدولة العباسية ؟

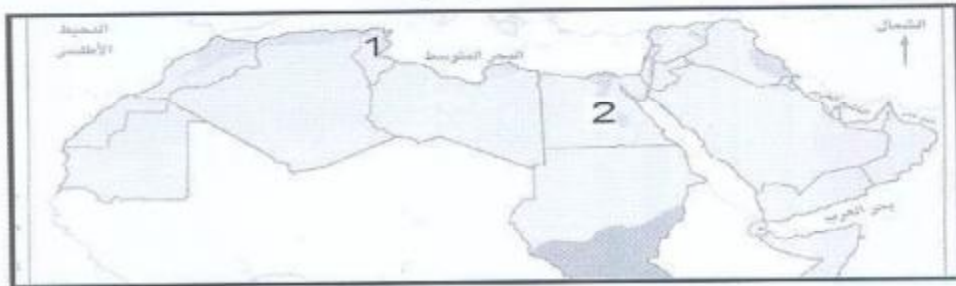
.....

د- لماذا سميت الدولة العباسية بهذا الاسم ؟

.....

السؤال الثالث: (٨ درجات)

أ- أدرس الخريطة التالية ثم أجب عن الأسئلة التي تليها ؟



- ١- ما نوع النمو السكاني في الدولة المشار إليها بالرقم (١) على الخريطة؟
- ٢- ظلل على الخريطة الدولة التي يوجد بها ميناء الفحل؟
- ٣- سم النهر المشار إليها بالرقم (٢) على الخريطة؟
- ٤- أكتب على الخريطة الموقع الصحيح للبحر الأحمر؟
- ب- عتل : "تخلو مساحات كبيرة من دول الوطن العربي من السكان"

ج- أكمل الناقص في الجدول التالي الذي يوضح أهم مشكلات الريف العربي؟

المشكلة	أسبابها
التصحر	١- الرعي الجائر وتدهور المراعي بسبب الجفاف
	٢-
	٣-

د- صنف حسب الجدول التالي الصناعات التالية إلى صناعات استخراجية وصناعات تحويلية؟

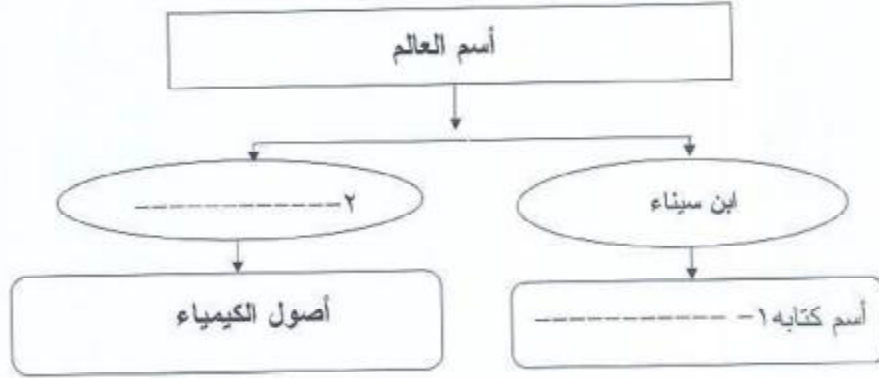
(صيد الأسماك ، الملابس ، المحاجر ، تعليب الأسماك)

صناعات تحويلية	صناعات إستخراجية
١-	١-
٢-	٢-

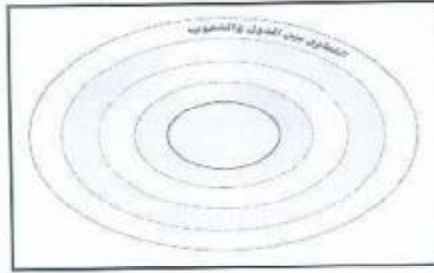
المسؤال الرابع : (٨ درجات)

أ- من هو الخليفة العباسي الذي أنشأ بيت الحكمة في بغداد؟

ب- "الشكل التالي يوضح أسم العالم وأهم مؤلفاته" أكمل الناقص في الشكل ؟



ج- أكتب بالترتيب في الشكل التالي المراحل التي يمر بها التعاون بين الناس من الدائرة الصغرى إلى الدائرة الكبرى ؟



- ١- التعاون بين الجيران وأهل الحي .
- ٢- التعاون بين أفراد الأسرة والأقارب .
- ٣- التعاون بين جميع المواطنين .

د- اقترح اثنين من الحلول المناسبة للتقليل من حوادث المرور في بلدك ؟

- ١.....
- ٢.....

،، إنتهت الأسئلة مع تمنياتنا للجميع بالتوفيق والنجاح ،،

بِسْمِ اللَّهِ الرَّحْمَنِ الرَّحِيمِ
" رَبِّهِمْ أَفْرَحُ لِي سَعْدِي وَيَسَّرْ لِي أَمْرِي "

سَبَّحْتَ بِحَمْدِكَ
مَدِينَةُ الْعِلْمِ وَالْحِكْمَةِ
المديرة العامة للتربية والتعليم محافظة الظاهرة
دائرة القويم التربوي

نموذج إجابة امتحان نهاية الفصل الدراسي الثاني - الدور الثاني - العام الدراسي ٢٠١١ / ٢٠١٢ م

الصف: الخامس المادة: الدراسات الاجتماعية الزمن: ساعة ونصف الدرجة: ٤٠ درجة

إجابة السؤال الأول: (١٦ درجة ، لكل مفردة درجتان)

رقم المفردة	١	٢	٣	٤	٥	٦	٧	٨
رمز الإجابة	أ	ب	ج	د	د	ج	د	أ
الإجابة	بغداد	برقه	مسجد قبة الصخرة	٦٥٦ هـ	٤	٣,٥ %	السعودية السود	٤
الدرجة	٢	٢	٢	٢	٢	٢	٢	٢
الصفحة	٣٤	١٥	٢٣	٣٠	٥٢-٥١	٤٧	٦٩	٨١

إجابة السؤال الثاني : (٨ درجات)

م	الإجابة	الدرجة	الصفحة
أ	آسيا وأوروبا	٢	١٤
ب	(١) - تأمين إيصال الرسائل إلى أصحابها . (٢) - ديوان الخراج	٢	٢١
ج	لأن الدولة العباسية كانت واسعة شملت مناخات متعددة .	٢	٣٦
د	نسبة إلى جددهم العباس عم الرسول صلى الله عليه وسلم .	٢	٢٧

إجابة السؤال الثالث : (٨ درجات)

أ-

م	الإجابة	الدرجة	الصفحة
١	نمو سكاني منخفض	١	٤٧ - ٤٨
٢	يظل الطالب سلطنة عمان	١	٨٣
٣	نهر النيل	١	٦٩
٤	يكتب الطالب البحر الحمر في الموقع الصحيح	١	٥١

ب-

الدرجة	الصفحة	الإجابة:
١	٥٤	نتيجة لشدة الحرارة والجفاف ونقص الموارد المائية

ج-

الدرجة	الصفحة	الإجابة
١	٥٦	أ- سوء استخدام المياه وتملحها . ٢- تملح التربة

د-

الدرجة	الصفحة	صناعات تحويلية	صناعات إستخراجية
٢	٧٨ - ٧٩	١- الملابس ٢- تعليب الأسماك	١- صيد الأسماك - المحاجر

إجابة السؤال الرابع (٨ درجات)

أ-

م	الإجابة	الدرجة	الصفحة
١	هارون الرشيد	١	٣٨

ب -

م	الإجابة	الدرجة	الصفحة
١	كتاب القانون في الطب	١	٣٩
٢	جابر بن حيان	١	

ج -

م	الإجابة	الدرجة	الصفحة
١	التعاون بين الجيران وأهل الحي	١	٩٢
٢	التعاون بين أفراد الأسرة والأقارب	١	
٣	التعاون بين جميع المواطنين	١	

د-

م	الإجابة	الدرجة	الصفحة
١	- تكثيف التوعية المرورية لمختلف فئات المجتمع .	١	١١١
٢	- استكمال خطط التنمية والبنية التحتية المرتبطة بتوسيع الطرق (نرجو مراعاة إجابات الطلاب بما يتناسب والإجابة الصحيحة)	١	

” نهاية نموذج الإجابة ”

إعداد وحدة إشراف الدراسات الاجتماعية ٩٩٤٦٩٦٧٦