



سلطنة عمان

وزارة التربية والتعليم

المديرية العامة للتربية والتعليم محافظة ظفار

٤٠

امتحان نهاية الفصل الدراسي للصف الخامس (الأساسي / لعام)
للعام الدراسي ١٤٣٥هـ / ١٤٣٦ هـ - ٢٠١٣م / ٢٠١٤م
الفصل الدراسي الثاني

المادة: الدراسات الاجتماعية

الدرجة الكلية للامتحان: ٤٠ درجة

الاسم الطالب/ة:

الصف: خامس/.....

السؤال الأول:

ضع دائرة حول الرمز الدال على الإجابة الصحيحة من بين البدائل المعطاة أمامك:-

16

١- الدولة التي اصبح الحكم فيها وراثيا بعد الخلافة الراشدية :-

د- الأموية

ج- الفاطمية

ب- العثمانية

أ- العباسية

٢- "الخريطة التي أمامك تمثل فئات النمو السكاني في الوطن العربي حتى عام ٢٠٠٠م" تصنف سلطنة عمان ضمن فئات:-

أ- أكثر من ٣,٥ %

ب- من ٢,٥ - ٣,٥ %

د- اقل من ٢,٥ %

ج- ٢-٣ %

٣- يقصد بالنقود والأرض المقام عليها المشروع والمباني والآلات:-

ب- الأيدي العاملة

أ- الأسواق

د- رأس المال

ج- النقل

٤- تكثر الزراعة المروية في مصر والسودان والعراق بسبب وجود:-

ب- الآبار

أ- الأفلاج

د- العيون

ج- الأنهار

٥- يحتل الغاز الطبيعي كمصدر من مصادر الطاقة في الوطن العربي المرتبة:-

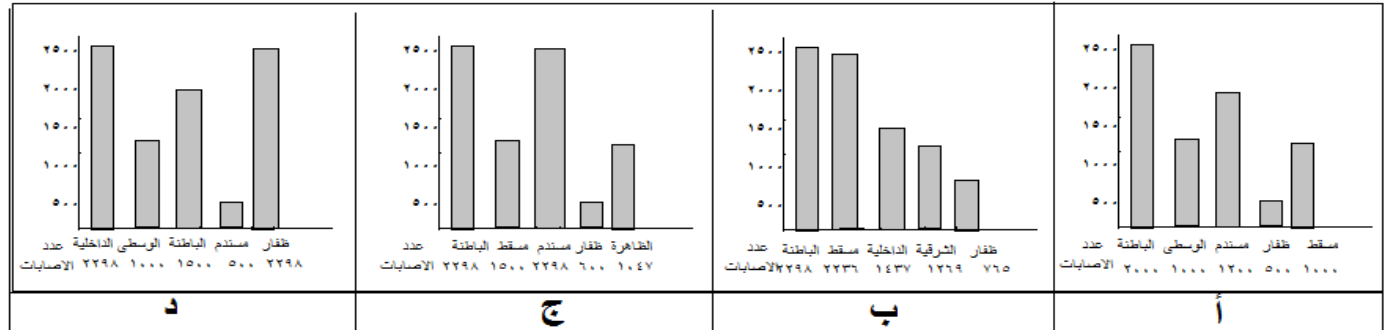
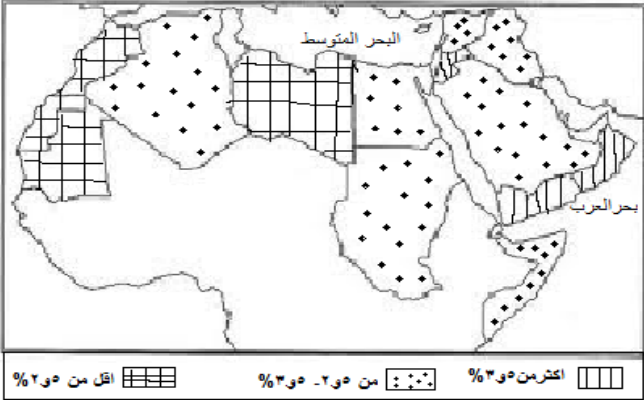
ب- الثانية

ج- الثالثة

د- الرابعة

أ- الأولى

٦- تشير الأشكال الآتية إلى إحصائية إصابات حوادث المرور عام ٢٠٠٠م وكانت أكثر ارتفاعا بمحافظتي مسقط والباطنة والشكل الصحيح هو:



توجد محمية "جبل سمحان" الطبيعية" في:-

د- سوريا

ج- مصر

ب- الاردن

أ- سلطنة عمان

٨- المدينة التي وصفها احد المؤرخين بعروس الدنيا:-

د- الفيوان

ج- القسطنطينية

ب- دمشق

أ- بغداد

السؤال الثاني :

أولاً:- عرف ما يلي:-

أ- الطاقة المتجددة:

.....
.....

ب- السياحة:

.....

ثانياً:-

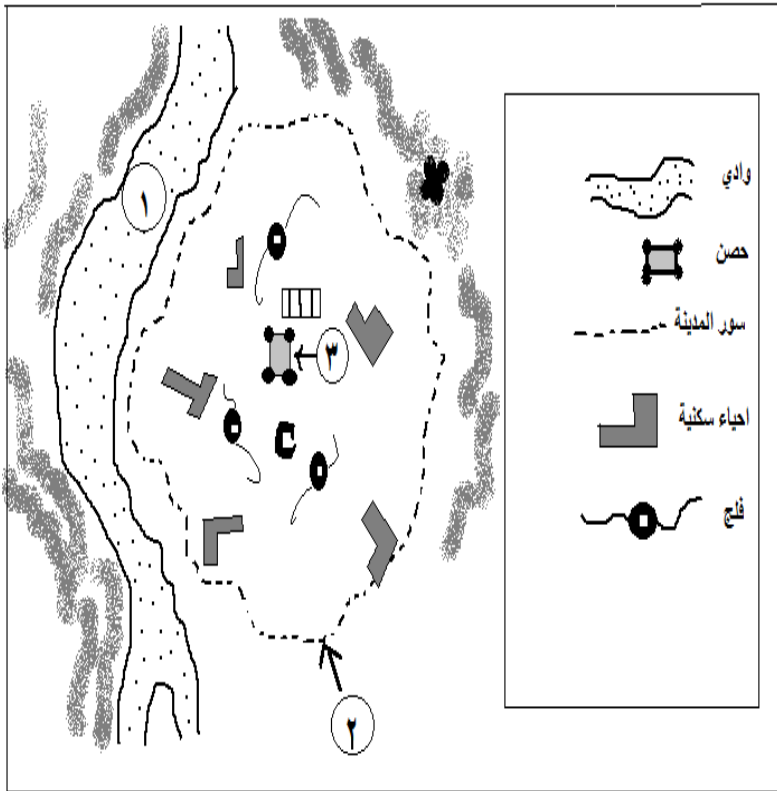
أ- إذا سمعت أن أفراد المجتمع يساعدون بعضهم بعضاً ، لا سيما الفقراء منهم . فماذا تتوقع أن يصبح هذا المجتمع ؟

.....
.....

ب_ علل: إنشاء المصانع التي تستخدم الآلات الحديثة في الوطن العربي ؟

.....
.....

ثالثاً: ادرس الشكل الآتي والذي يوضح العناصر المعمارية التي تشملها المدينة قديماً ثم أكمل الفراغات المطلوبة:-



١- يشير الرقم (١) إلى مخطط

٢- يشير الرقم (٢) إلى مخطط

٣- يشير الرقم (٣) إلى مخطط

٤- يشير الرمز () إلى

السؤال الثالث:

٨

أولاً:- عدد اثنين من المشكلات البشرية التي تواجه الزراعة ؟

.....-

ثانياً:-

أ- اذكر دول شبة جزيرة أيبيريا حالياً ؟

.....-

ب- تميز العصر الثاني للدولة العباسية بالضعف. وضح ذلك ؟

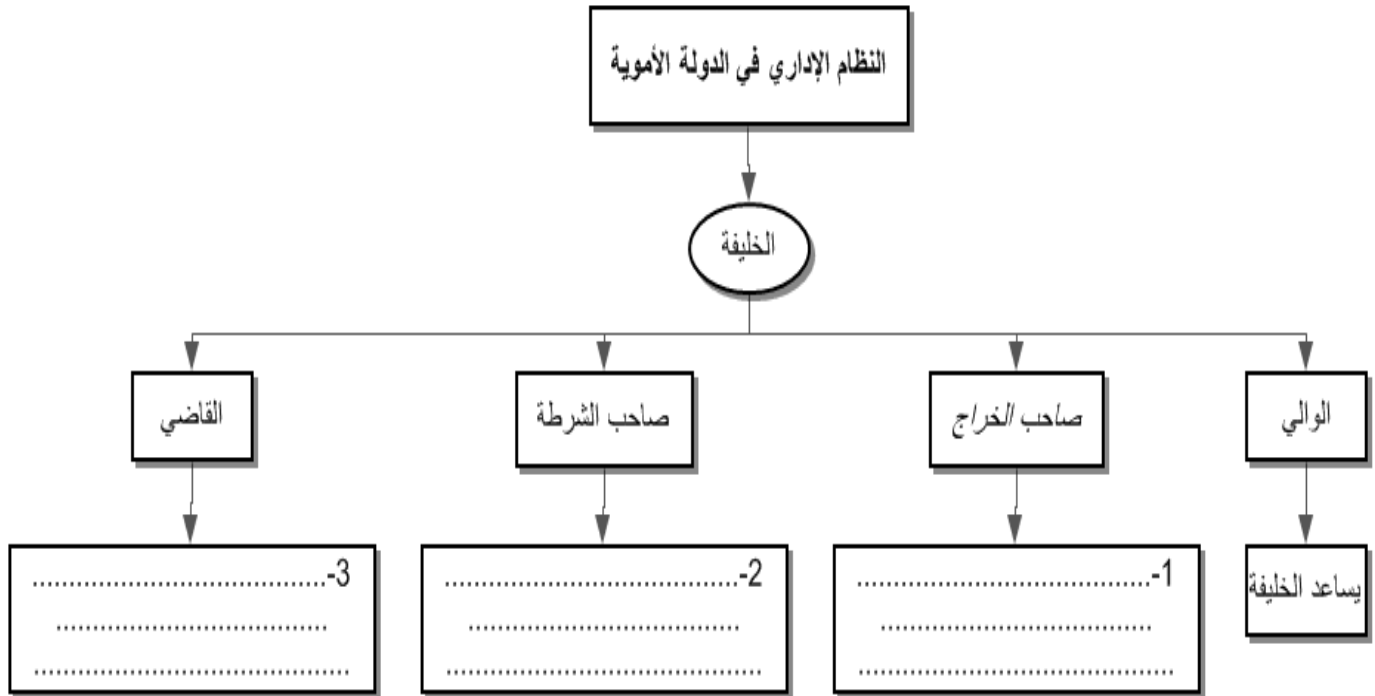
..... - ١

..... - ٢

..... - ٣

ثالثاً:-

- أكمل مخطط المفاهيم التالي:



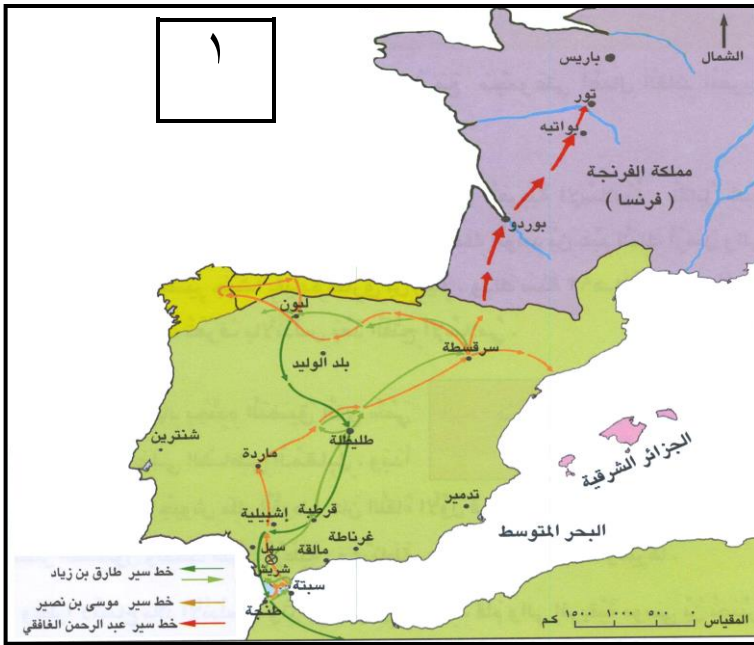
السؤال الرابع:

٨

أولاً:- يمكن للأسرة ان تساهم في مؤسسات العمل الاجتماعي " أعط أمثلة على ذلك ؟

- ١-
- ٢-
- ٣-

ثانياً:- تبين الخريطة التي امامك خط سير حملات الفتح الاسلامي ببلاد الاندلس :



١-يشير الرقم (١) إلى المحيط

٢-أ) يفصل بين قارتي افريقيا واوروبا مضيق :

ب) اذكر احدى حملات الفتح الاسلامية في الاندلس :

ثالثاً:-

١- ماذا تعني هذه الاشارة اذا رايتها في مكان ما ؟

-
-

٢- أ) اذكر نتيجة واحدة ترتبت على زيادة الاختناقات المرورية ؟

-
-

ب) اقترح حلا للتقليل من مشاكل الاختناقات المرورية ؟

-

انتهت الأسئلة مع تمنياتنا لكم بالتوفيق والنجاح،،،





نموذج إجابة امتحان نهاية الفصل الدراسي للصف الخامس للتعليم (الأساسي/العام)

للعام الدراسي ١٤٣٤هـ/١٤٣٥هـ - ٢٠١٣/٢٠١٤م

الفصل الدراسي الثاني

تنبيه: نموذج الإجابة في صفتين

الدرجة الكلية: ٤٠ درجة

المادة: الدراسات الاجتماعية

إجابة السؤال الأول:- ١٦ درجة (كل مفردة درجتان)

المفردة	البديل الصحيح	الدرجة	الصفحة
١	د	٢	١٠
٢	أ	٢	٤٧
٣	د	٢	٧٧
٤	ج	٢	٦٩
٥	ب	٢	٨٤
٦	ب	٢	١١١
٧	أ	٢	٨٧
٨	أ	٢	٣٥

إجابة السؤال الثاني (٨ درجات يتكون من ثلاث جزئيات)

الجزئية	المفردة	الإجابة الصحيحة	الدرجة	الصفحة
أولاً	أ	الطاقة التي لا تنضب وتتجدد تلقائياً في الطبيعة	١	٨٠
	ب	زيارة الأفراد للاماكن من الترويح عن النفس	١	٨٥
ثانياً	أ	يكون مجتمع مترابط متعاون بين أفراده أو أي معني آخر للطالب	٢	١١٧
	ب	تساعد على زيادة الإنتاج	٢	٧٧
ثالثاً	١	وادي	نصف درجة	٦٧
	٢	سور المينة	نصف درجة	
	٣	حصن	نصف درجة	
	٤	مسجد	نصف درجة	

إجابة السؤال الثالث (٨ درجات يتكون من ثلاث جزئيات)

الصفحة	الدرجة	الإجابة الصحيحة	المفردة	الجزئية
٧٢	١	-إتباع الأساليب التقليدية في الزراعة - ضعف وسائل التسويق الإنتاج -الهجرة من الريف إلى المدينة "يكتفي بذكر اثنين"- لكل نصف درجة	-	أولاً
١٧	٢	- اسبانيا - البرتغال (لكل درجة .	أ	ثانياً
٣٠	٢	تفككت إلى عدد من الدويلات - سيطر الأعاجم على الخلافة في بغداد أقصى العنصر العربي من الجيش - وتحكم الفرس والترك في أمور الدولة "يكتفي بذكر اثنين "	ب	
٢٢	١	جمع الضرائب	١	ثالثاً
	١	مسؤولية الأمن	٢	
	١	يتولى شؤون القضاء	٣	

إجابة السؤال الرابع (٨ درجات يتكون من ثلاث جزئيات)

الصفحة	الدرجة	الإجابة الصحيحة	المفردة	الجزئية
٩٨	٢	- المحافظة على نظافة الحي - زيارة المرضى - تجميل الحي -مساعدة الضعفاء والمحتاجين - زرع الأشجار "يكتفي بذكر اثنين لكل واحد درجة"	-	أولاً
١٨	١	المحيط الأطلسي	١	ثانياً
	١	مضيق جبل طارق	٢- أ	
	١	حملة طارق بن زياد - حملة موسى بن نصير - حملة عبدالرحمن الغافقي يكتفي بذكر واحد فقط / اي احدي هذه الاجابات .	٢- ب	
١١٠	١	عدم الوقوف في هذا المكان لأنه مخصص لذوي الاحتياجات الخاصة .	١	ثالثاً
٥٦	١	ضياح الوقت اثناء التنقل على الطريق المزدحم - زيادة الحوادث المرورية - زيادة التلوث يكتفي بذكر واحد فقط .	٢- أ	
	١	الحلول المقترحة يتم تقديرها من قبل المعلم : مثل : بناء جسور - حفر انفاق للمشاة - عمل محطات مترو وقطارات - توسعة الشوارع	٢- ب	