

سَلْطَنَةُ عُومَانِ
وَزَارَةُ التَّرْبِيَةِ وَالتَّعْلِيمِ

المديرية العامة للتربية والتعليم لمحافظة مسندم
امتحان الصف الخامس
للعام الدراسي 1437/1436 هـ - 2016/2015 م
الفصل الدراسي الثاني - الدور الأول

- المادة : الدراسات الاجتماعية
- زمن الإجابة : ساعة ونصف
- عدد صفحات أسئلة الامتحان : (4)
- الإجابة في الورقة نفسها

اسم الطالب	
المدرسة	
الشعبة	

السؤال	الدرجة بالأرقام (بالأحمر)		الدرجة بالحروف (بالأحمر)	التوقيع بالاسم	
	آحاد	عشرات		المصحح (بالأحمر)	المدقق (بالأخضر)
1					
2					
3					
4					
5					
المجموع				مراجعة الجمع والتشطيب (بالأزرق)	جمعه (بالأحمر)
المجموع الكلي			40		



امتحان الصف الخامس لمادة الدراسات الاجتماعية
للعام الدراسي 1437/1436 هـ - 2016/2015 م
الفصل الدراسي الثاني - الدور الأول

السؤال الأول: ضع دائرة على رمز الإجابة الصحيحة من بين البدائل المعطاة. (أجب عن جميع الأسئلة)


1- والي العراق الذي يرجع اليه الفضل في تجهيز جيوش الشرق في عهد الخليفة عبد الملك بن مروان :
أ-موسى بن نصير ب-زهير بن قيس البلوي ج-محمد بن القاسم الثقفي د-الحجاج بن يوسف الثقفي

2-جميع ما يلي من أشكال التعاون عدا :

أ-آكل الطعام في الأطباق وأتركها على المائدة ب-الأم ترعى شؤون المنزل والاب يعمل وينفق على أسرته
ج-أشترك مع أفراد اسرتي في نظافة وتجميل بيتنا د-يستمتع الاب للمشكلات التي تواجه أفراد الاسرة ويحلها

3-الدولة التي يوجد فيها الموقع الاثري المقابل هي :

أ-سلطنة عمان ب-مصر
ج-الاردن د-لبنان



4-الترتيب الزمني للعواصم الاسلامية من الاقدم إلى الاحدث هو :

أ-دمشق -المدينة المنورة -بغداد ب-المدينة المنورة - بغداد -دمشق
ج-المدينة المنورة -دمشق - بغداد د-بغداد -المدينة المنورة -دمشق

5-يقل سكان الوطن العربي في المناطق :

أ-الغنية بالنفط ب-الغنية بالموارد الزراعية ج-الجبيلة شديدة الانحدار د-الغنية بالغاز الطبيعي

6-يعرف المكان الذي يعقد فيه تجار بغداد الصفقات التجارية بـ:

أ-الخانات ب-المجالس ج-القصور د-الدواوين

7-من العوامل الطبيعية التي تساهم في قيام الصناعة :

أ-رأس المال ب-الموقع ج-الاسواق د-وسائل النقل

8-من أسباب التنقل والترحال للبدو :

أ-البحث عن الماء والرعي ب-البحث عن الاستقرار
ج-النزاعات القبلية د-البحث عن زيادة الدخل



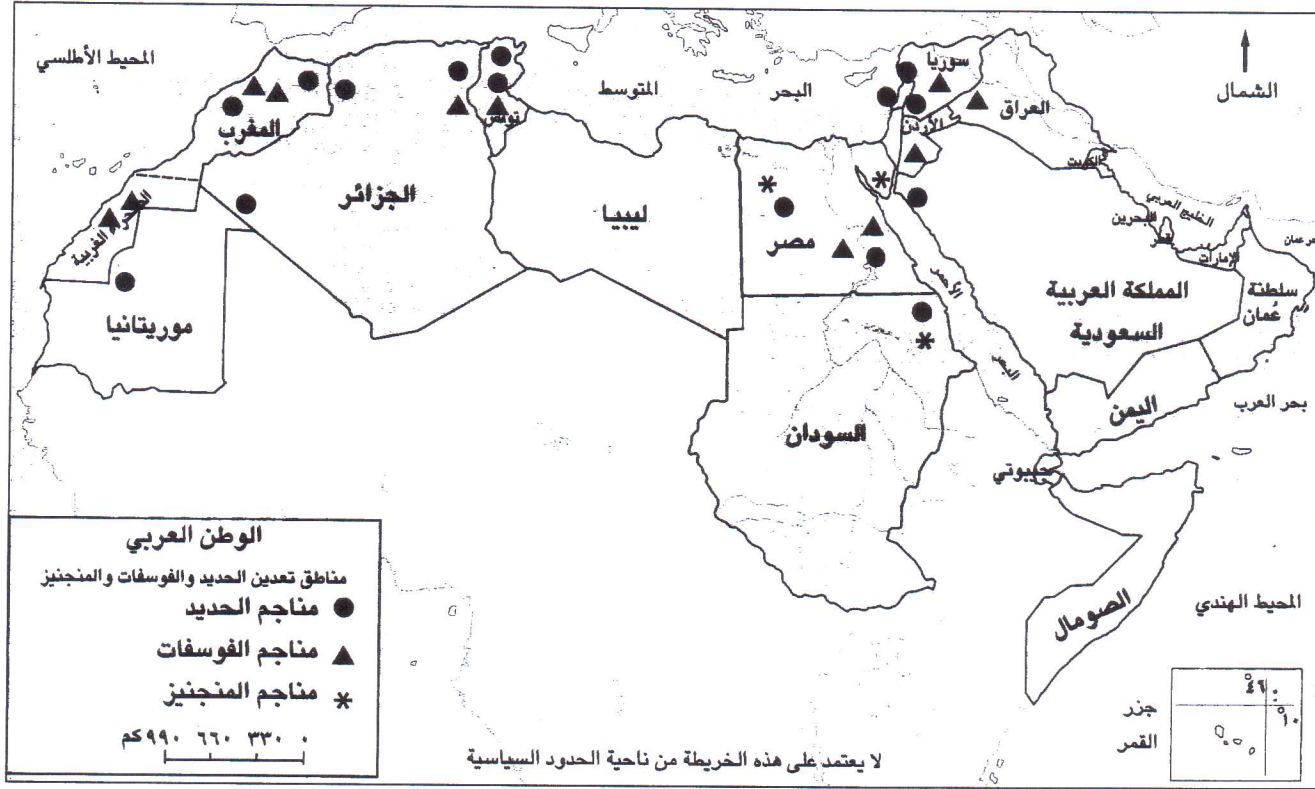
امتحان الصف الخامس لمادة الدراسات الاجتماعية
للعام الدراسي 1437/1436 هـ - 2016/2015 م
الفصل الدراسي الثاني - الدور الأول

السؤال الثاني : أجب عن الأسئلة

اولا : انسب الكتب الواردة ادناه الى العالم الذي ألفها مستعينا بالاتي (ابن سينا - البيروني - الخوارزمي - جابر بن حيان)

- 1- كتاب حساب الجبر والمقابلة
- 2- كتاب القانون
- 3- أصول الكيمياء

ثانيا : انظر الى الخريطة ثم أجب عن الاسئلة التي تليها :



- 1- ما دلالات مفتاح الخريطة
- 2- كم عدد الدول العربية المنتجة للمنجنيز ؟
- 3- ما اسم المعدن الذي تشترك في إنتاجه كل من العراق ومصر ؟



امتحان الصف الخامس لمادة الدراسات الاجتماعية
للعام الدراسي 1437/1436 هـ - 2016/2015 م
الفصل الدراسي الثاني - الدور الأول

ثالثا: وزع المصطلحات الآتية وفقا للمعطيات الواردة في الجدول ادناه (الايثار - المؤسسة - التكافل الاجتماعي - العمل الاجتماعي)

المصطلحات	العبارات
.....	١- تقديم الخدمات الاجتماعية للأخرين بصورة فردية أو من خلال جماعة منظمة
.....	٢- رعاية ومساعدة أفراد المجتمع بعضهم بعضا ولا سيما فقراء الناس كالإيتام والعجزة
.....	٣- إعطاء شيء إلى الآخرين مع الحاجة إليه
.....	٤- مجموعة من الأفراد يؤدون أعمالا ضمن قواعد وقوانين محددة

8

السؤال الثالث : أجب عن الأسئلة

اولا: انظر الى صورة المسجد المقابل ثم أجب عن الاسئلة :

1- ما اسم هذا المسجد؟

.....

2- أين يوجد هذا المسجد؟

.....

3- اذكر اثنين من الشواهد الباقية على العمارة الاموية الجميلة .

.....

.....

ثانيا: صنف مصادر الطاقة الآتية وفقا للمعطيات الوارد في الجدول أدناه (الرياح - النفط - الامواج - الفحم)



مصادر متجددة	مصادر غير متجددة
.....-1-2
.....-3-4



امتحان الصف الخامس لمادة الدراسات الاجتماعية
للعام الدراسي 1437/1436 هـ - 2016/2015 م
الفصل الدراسي الثاني - الدور الأول

8

ثالثا: وضح الدور الذي تقوم به مراكز الوفاء لتأهيل الأطفال المعوقين في سلطنة عمان.

.....

السؤال الرابع : أجب عن الأسئلة

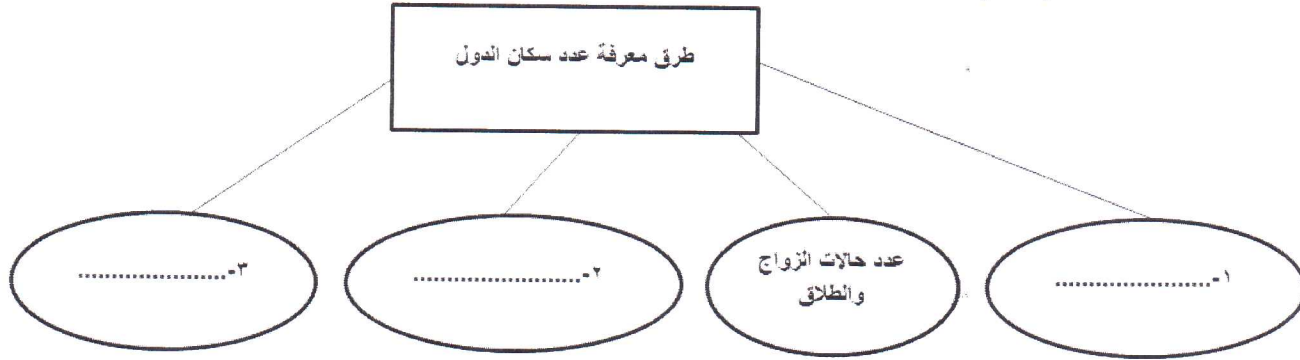
اولا: أقرأ النص ثم أجب عن الاسئلة التي تليه :

"بلغ عدد الذين حكموا من الاسرة الأموية (14) خليفة ، أولهم معاوية بن أبي سفيان الذي أسس الدولة الأموية ، واتخذ من مدينة دمشق عاصمة لها وقد اختار معاوية ابنه يزيد ليكون وليا للعهد من بعده فأصبح الحكم وراثيا في الدولة "

أ- ما اسم أول خليفة للدولة الاموية

ب- ما نوع الحكم في الدولة الاموية

ثانيا : اكمل المخطط الذهني الاتي :



ثالثا : رتب مراحل جني التمور عند العمانيين ترتيبا تصاعديا بوضع الرقم المناسب بين الاقواس وفقا لمعطيات الجدول ادناه.

الترتيب	مراحل جني التمور
()	١- فرز التمور الصالحة من غير الصالحة
()	٢- تجميع التمور من أعلى وأسفل النخلة
()	٣- التعبئة في الجراب
(٣)	٤- نقل التمور الى المسطاح

8

انتهت الأسئلة مع تمنياتنا لكم بالتوفيق والنجاح



مملكة العربية السعودية
وزارة التربية والتعليم

المديرية العامة للتربية والتعليم محافظة مسندم

نموذج إجابة امتحان الصف الخامس
للعام الدراسي 1437/1436 هـ - 2016/2015 م
الفصل الدراسي الثاني - الدور الأول
المادة: الدراسات الاجتماعية

الدرجة الكلية (16) درجة

إجابة السؤال الأول الموضوعي

المفردة	1	2	3	4	5	6	7	8
البديل الصحيح	د	أ	ب	ج	ج	أ	ب	أ
الدرجة	2	2	2	2	2	2	2	2
الصفحة	12	83	73	-10 29	46	32	61	53
المخرج التعليمي								

الدرجة الكلية (8) درجة

إجابة السؤال الثاني

الجزئية	المفردة	الإجابة	الدرجة	الصفحة	المخرج التعليمي
أولاً	1	الخوارزمي	1	34	
	2	ابن سينا	1	34	
	3	جابر بن حيان	1	34	
ثانياً	1	مناطق تعدين الحديد والفوسفات والمنجنيز في الوطن العربي	1	62	
	2		1	62	
	3	الفوسفات	1	62	
ثالثاً	1	العمل الاجتماعي	1/2	76	
	2	التكافل الاجتماعي	1/2	79	
	3	الايثار	1/2	82	
	4	المؤسسة	1/2	88	



تابع أنموذج إجابة امتحان الصف الخامس
للعام الدراسي 1436/1437هـ - 2015/2016م

المادة: الدراسات الاجتماعية

الفصل الدراسي الثاني - الدور الأول

الدرجة الكلية (8) درجة

إجابة السؤال الثالث

المخرج التعليمي	الصفحة	الدرجة	الإجابة	المفردة	الجزئية
	21	1	مسجد عقبة بن نافع	1	أولاً
	21	1	تونس	2	
	22	1	المسجد الأقصى - قبة الصخرة - المسجد الأموي (يكتفى باثنين لكل نصف درجة)	3	
	66	1	الرياح (لا يشترط الترتيب 1-3)	1	ثانياً
	66	1	النفط (لا يشترط الترتيب 2-4)	2	
	66	1	الأمواج (لا يشترط الترتيب 1-3)	3	
	66	1	الفحم (لا يشترط الترتيب 2-4)	4	
	91	1	تدريب الأطفال ذوي الإعاقات على مهارات الحياة اليومية وتهيئتهم للالتحاق بالمؤسسات التعليمية والتدريبية		ثالثاً

الدرجة الكلية (8) درجة

إجابة السؤال الرابع

المخرج التعليمي	الصفحة	الدرجة	الإجابة	المفردة	الجزئية
	10	1	معاوية بن أبي سفيان	1	أولاً
	10	1	وراثياً	2	
	38	1	التعداد	1	ثانياً
	38	1	عدد المواليد والوفيات	2	
	38	1	عدد المهاجرين	3	
	98	1	2	1	ثالثاً
	98	1	1	2	
	98	1	4	3	

انتهى النموذج