

امتحان الصف الخامس
للعام الدراسي ١٤٣٧/١٤٣٨ هـ - ٢٠١٦/٢٠١٧ م
الدور الأول - الفصل الدراسي الأول

- المادة: الدراسات الاجتماعية
- عدد صفحات أسئلة الامتحان: (٦) صفحات.
- زمن الإجابة: ساعة ونصف
- الإجابة في الورقة نفسها.

		اسم الطالب
الصف		المدرسة

التوقيع بالاسم		الدرجة		السؤال
المصحح الثاني	المصحح الأول	بالحروف	بالأرقام	
				١
				٢
				٣
				٤
مراجعة الجمع	جمعه			المجموع
				المجموع الكلي

أجب عن جميع الأسئلة الآتية

السؤال الأول: (٦ درجات)

ضع دائرة حول رمز الإجابة الصحيحة لكل مفردة من المفردات الآتية:

١- تسقط الأمطار على مناطق مناخ البحر المتوسط في فصل :-
أ- الصيف ب- الشتاء ج- الخريف د- الربيع

٢- إحدى المشكلات التالية تتعرض لها النباتات في الوطن العربي :-
أ- الجريان ب- الانجراف ج- الحرائق د- الملوحة



٣- الصورة التي أمامك توضح مفهوم تضاريسي يطلق عليه اسم :-
أ- السهول ب- الأودية

ج- الكثبان الرملية د- السلاسل الجبلية

٤- ازدهرت مدن اليمن والحجاز قبل الإسلام بسبب :-
أ- التجارة ب- الزراعة ج- الصناعة د- السياسة

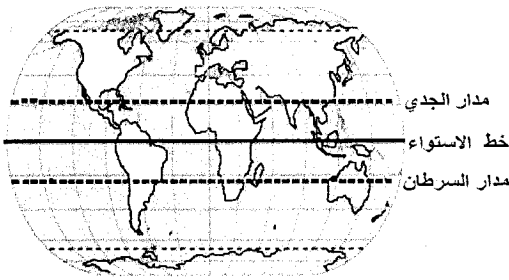
٥- الهضبة الصحراوية التي يستخرج منها النفط في سلطنة عُمان تقع في محافظة :-
أ- الداخلية ب- الوسطى ج- الظاهرة د- مسقط

٦- خالد مهمته الفصل بين خصومات الأفراد وتأمين مصادر العيش للقبيلة، فنحن نتحدث عن :-

أ- الشيخ ب- الشاعر ج- الراعي د- الفارس

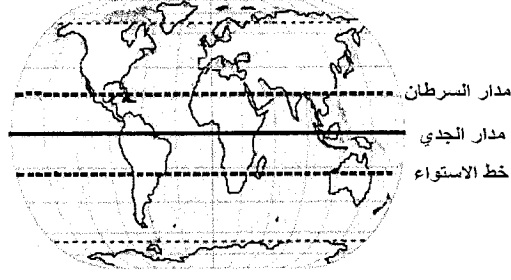
تابع السؤال الأول:

٧- الخريطة التي توضح التوزيع الصحيح لدوائر العرض الرئيسية هي:-



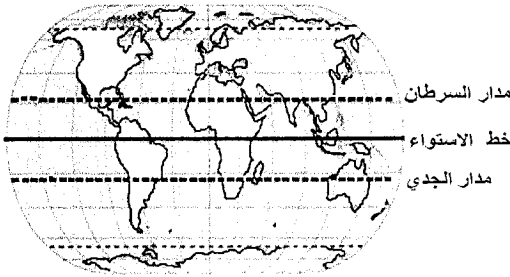
مدار الجدي
خط الاستواء
مدار السرطان

ب



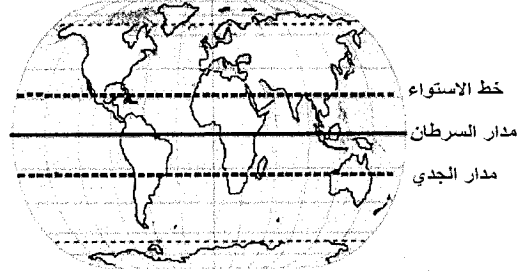
مدار السرطان
مدار الجدي
خط الاستواء

أ



مدار السرطان
خط الاستواء
مدار الجدي

د



خط الاستواء
مدار السرطان
مدار الجدي

ج

- ٨- يطلق على الحافة الصخرية التي تواجه البحر مباشرة اسم:-
أ- المصاطب ب- الجروف ج- الكهوف د- المسلات

السؤال الثاني (٨ درجات)

أولاً:

أ- ما الصعوبات التي تواجه المزارعين عند استخدامهم الأراضي الجبلية للزراعة؟

.....

ب- عدد أنواع السهول التي يتركز فيها سكان الوطن العربي لممارسة نشاطهم الاقتصادي؟

.....

.....

تابع السؤال الثاني:

ثانياً:

أ- فسر ما يلي : تعتبر التربة مورداً طبيعياً مهماً للإنسان.

ب- أمامك جدول يوضح توزيع درجات الحرارة والأمطار في قرية عين صالح ادرسه جيداً ثم أجب عن الأسئلة التالية :-

الشهر	يناير	فبراير	مارس	أبريل	مايو	يونيو	يوليو	أغسطس	سبتمبر	أكتوبر	نوفمبر	ديسمبر
درجات الحرارة (س)	٢٠	٢٤	٢٧	٣٠	٣٤	٣٨	٣٧	٣٦	٣٤	٣١	٢٥	٢٢
الأمطار (مليمترات)	-	-	-	٠,٥	١	١,٥	-	٢	١	-	-	-

(عين صالح)

١- المناخ الذي تنتمي إليه قرية عين صالح هو المناخ الصحراوي:

نعم

اختر الإجابة الصحيحة بوضع علامة (✓)

لا

٢- فسر ذلك :

ثالثاً:

أ- ما النتائج المترتبة إذا نَدَّر سقوط الأمطار على محافظة ظفار صيفاً؟

ب- اقترح الحلول المناسبة لحماية القرى والمزارع من زحف الرمال؟

السؤال الثالث (٨ درجات)

أولاً :

عرف مايلي:-

١- الطقس.

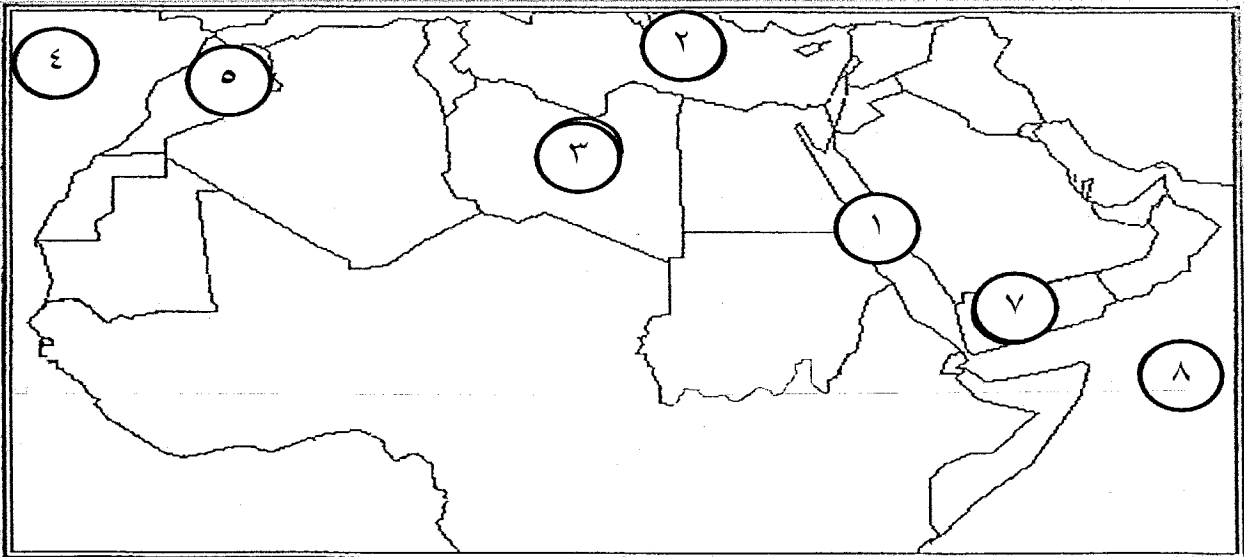
٢- حركة الردة.

ثانياً:

أ- قال تعالى: {وَأذْكُرُوا نِعْمَةَ اللَّهِ عَلَيْكُمْ إِذْ كُنْتُمْ أَعْدَاءً فَأَلَّفَ بَيْنَ قُلُوبِكُمْ فَأَصْبَحْتُمْ بِنِعْمَتِهِ إِخْوَانًا} (سورة آل

عمران.) تدعو الآية الكريمة لإجراء قام به الرسول ﷺ بالمدينة المنورة حدده.

ب- استعن بخريطة الوطن العربي ثم أجب عن الاسئلة الآتية :-



١- الدولة المطلة على مضيق جبل طارق مشار إليها بالرقم (.....)

٢- الدولة التي تضم هضبة اليمن مشار إليها بالرقم (.....)

٣- ضلل على الخريطة جبال ظفار.

تابع السؤال الثالث.

ثالثاً:

حلل الرسم التالي للكورة الأرضية الذي أمامك ثم
أجب عن الاسئلة التالية :-

- ١- المشكلة التي يوضحها الشكل هي :
اختر الإجابة الصحيحة بوضع علامة (✓)

تدهور خصوبة التربة

العجز المائي

- ٢- حدد السبب الرئيسي لحدوث هذه المشكلة.

- ٣- اعطي الحلول المقترحة من وجهة نظرك للحد من هذه المشكلة.

السؤال الرابع (٨ درجات)

أولاً:

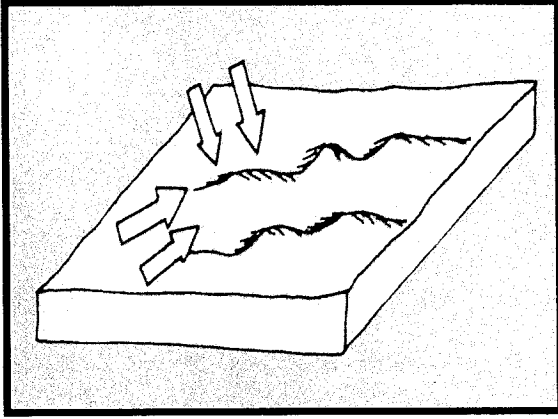
أ- أذكر الصفات الحميدة التي اتصف بها العرب قبل الإسلام؟

١-

٢-

ب- ما المهام التي يقوم بها ديوان الجند الذي أنشأه الخليفة عمر بن الخطاب؟

تابع السؤال الرابع:



ثانياً:

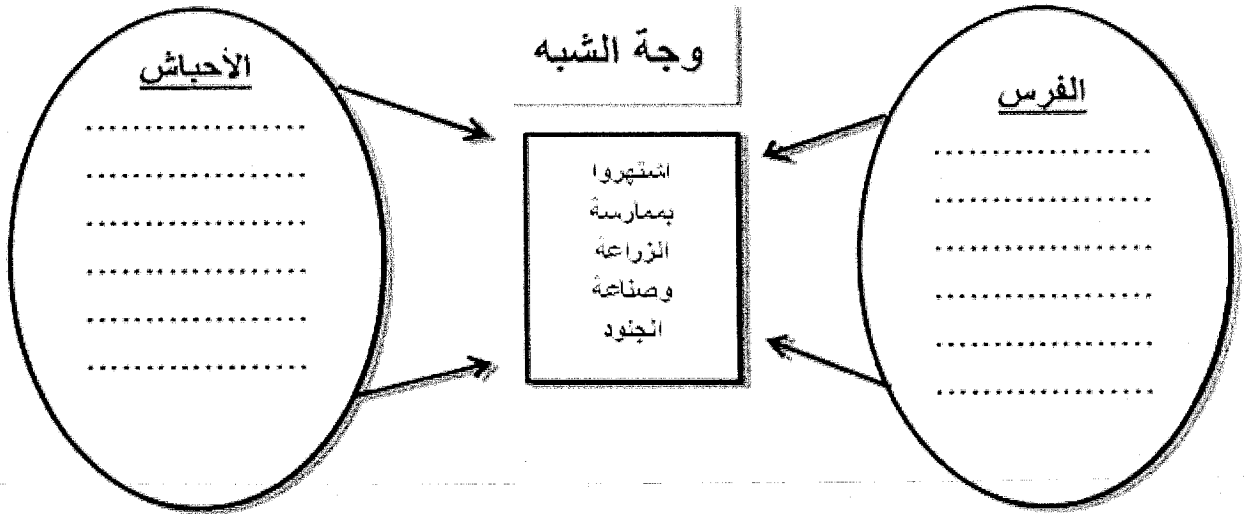
أ- لاحظ الشكل الذي أمامك وأجب عما يلي :-

١- اسم الشكل .

٢- العامل الرئيسي لتكوينه .

ب- صنف خصائص المقارنة بين كل من الإمبراطورية الفارسية و دولة الأحباش وفق المخطط التالي :-

(عملتهم الدرهم المتداولة عند العرب قبل الإسلام- قامت على أنقاض مملكة أكسوم- سميت معابدهم ببيوت النار- الديانة النصرانية مصدر القوانين لديهم)



ثالثاً: (الحضارة الإسلامية في عهد الخلفاء الراشدين حضارة مدن فقد شجع الإسلام على حياة الاستقرار بدلاً من حياة التنقل والبدو) دلل على صحة هذه العبارة.

انتهت الأسئلة مع الدعاء للجميع بالتوفيق والنجاح.



نموذج إجابة امتحان الصف: الخامس
للعام الدراسي ١٤٣٧/١٤٣٨ هـ - ٢٠١٦/٢٠١٧ م
الدور الأول - الفصل الدراسي: الأول

المادة: الدراسات الاجتماعية
تنبيه: نموذج الإجابة في (٤) صفحات.
الدرجة الكلية: (٤٠) درجة.

أولاً: إجابة السؤال الموضوعي:

المفردة	المفردة الصحيحة	الإجابة	الدرجة	الصفحة	المستوى المعرفي
١	ب	الشتاء	٢	٤١	معرفة
٢	ج	الحرائق	٢	٦٣	معرفة
٣	د	السلاسل الجبلية	٢	٢٧	فهم
٤	أ	التجارة	٢	٧٠	معرفة
٥	ب	الوسطى	٢	٣١	معرفة
٦	أ	الشيخ	٢	٦٧	فهم
٧	د		٢	١٣	تطبيق
٨	ب	الجروف	٢	٢٠	معرفة
المجموع			١٦ درجة		

(٢)

تابع نموذج إجابة امتحان الصف: الخامس
للعام الدراسي ١٤٣٧/١٤٣٨ هـ - ٢٠١٦/٢٠١٧ م
الدور الأول - الفصل الدراسي : الأول
المادة : الدراسات الاجتماعية

ثانيا: إجابة الأسئلة المقالية:

إجابة السؤال الثاني					الدرجة الكلية: (٨) درجة						
المفردة	الجزئية	الإجابة	الدرجة	الصفحة	المستوى المعرفي	المفردة	الجزئية	الإجابة الصحيحة	الدرجة	الصفحة	المستوى المعرفي
أولا	أ	الأراضي الجبلية شديدة الانحدار مما يصعب استخدام الآلات الزراعية	درجة	٢٨	معرفة	ثانيا	ب-١	نعم	درجة	٤٨-٤٦	تطبيق
	ب	السهول الساحلية- السهول الرسوبية	درجة لكل إجابة نصف درجة	١٨	معرفة		ب-٢	ارتفاع درجات الحرارة - قلة الامطار	درجة		
ثالثا	أ	نتيجة للاستفادة منها في الزراعة والرعي وبعض الصناعات . يكتفي بذكر استفادة واحدة	درجة	٦١	فهم	ب	أ	يقل نمو الأشجار والأعشاب في الجبال - المناخ سيصبح جاف وحرار - فقدان مكائنها السياحية (أو بما يفيد المعنى)	درجة ونصف	٥٣	قدرات عليا
	ب	زراعة الأشجار - إقامة سدود تحيط بالمراكز السكانية - عمل حواجز تفصل بين الكثبان والمناطق المجاورة لها (أي مقترح مناسب للطالب) (يكتفي بمقترح واحد فقط)	درجة ونصف	٣٩	فهم						
المجموع					٨ درجات						
إجابة السؤال الثالث					الدرجة الكلية: (٨) درجة						
المفردة	الجزئية	الإجابة الصحيحة	الدرجة	الصفحة	المستوى المعرفي	المفردة	الجزئية	الإجابة الصحيحة	الدرجة	الصفحة	المستوى المعرفي
أولا		١- حالة الجو لفترة زمنية قصيرة لا تتجاوز عدة أيام فقط	درجة	٤١	معرفة	ثانيا	أ	اصلح بين الاوس والخزرج - المواخاة بين المهاجرين والأنصار (يكتفي بإجراء واحد فقط)	درجة	٨٨	فهم
		٢- هي إرتداد بعض القبائل العربية عن الإسلام بعد وفاة الرسول ﷺ	درجة	٩٤	معرفة						

(٣)

تابع نموذج إجابة امتحان الصف: الخامس
للعام الدراسي ١٤٣٧/١٤٣٨ هـ - ٢٠١٦/٢٠١٧ م
الدور الأول - الفصل الدراسي : الأول
المادة : الدراسات الاجتماعية

ثانيا: إجابة الأسئلة المقالية:

تابع إجابة السؤال الثالث					الدرجة الكلية: (٨) درجة						
المفردة	الجزئية	الإجابة الصحيحة	الدرجة	الصفحة	المستوى المعرفي	المفردة	الجزئية	الإجابة الصحيحة	الدرجة	الصفحة	المستوى المعرفي
ثانيا	ب-١	(٥)	نصف درجة	١٣	تطبيق	ثالثا	ب-٢	(٧)	نصف درجة	٣١	تطبيق
	ب-٣		درجة	٢٧							
		١- العجز المائي	درجة	٥٧	قدرات عليا			٢- نقص المياه في بعض المناطق وزيادة عدد السكان	درجة		
		٣- تحلية مياه البحر - معالجة مياه الصرف الصحي - ترشيد استهلاك المياه (تقبل أي مقترح من قبل الطالب لحل المشكلة) (يكتفي بمقترح واحد فقط)	درجة								
		المجموع	٨ درجات								
إجابة السؤال الرابع					الدرجة الكلية: (٨) درجة						
المفردة	الجزئية	الإجابة الصحيحة	الدرجة	الصفحة	المستوى المعرفي	المفردة	الجزئية	الإجابة الصحيحة	الدرجة	الصفحة	المستوى المعرفي
أولا	أ	الشجاعة - الكرم - الأمانة - الصدق	درجة لكل اجابة نصف درجة	٦٦	معرفة	أولا	ب	إنشاء ديوان الجند: تسجل فيه أسماء الجند المقاتلين وتحدد أعطياتهم (رواتبهم)	درجة	٩٨	معرفة

(٤)

تابع نموذج إجابة امتحان الصف : الخامس
 للعام الدراسي ١٤٣٧/١٤٣٨ هـ - ٢٠١٦/٢٠١٧ م
 الدور الأول - الفصل الدراسي : الأول
 المادة : الدراسات الاجتماعية

تابع ثانيا: إجابة الأسئلة المقالية:

الدرجة الكلية: (٨) درجة		تابع إجابة السؤال الرابع			
المستوى المعرفي	الصفحة	الدرجة	الإجابة الصحيحة	الجزئية	المفردة
فهم	٣٧-٣٦	درجة	كثبان رملية طويلة .	١-أ	
		درجة	اتجاه الرياح.	٢-أ	
فهم	٧٦ ٧٧ ٨١ ٨٣	درجتان لكل جزئية نصف درجة	<p>الأحباش * النبأية التصراعية مصدر الفوائين * قامت على أنقاض مملكة أكسوم</p> <p>وجه الشبه</p> <p>اشتهروا بممارسة الزراعة وصناعة الجلود</p> <p>الفرس * عملتهم الدرهم المتداولة عند العرب قبيل الإسلاذ * سميت معابدهم ببيوت النار</p>	ب	ثانيا
		درجتان	تنظيم حياة المجتمع الإسلامي الجديد وإنشاء الأمصار - سكن المسلمون في المدن المفتوحة مثل دمشق وحمص في سوريا والاسكندرية في مصر والقدس في فلسطين		ثالثا
قدرات عليا	٩٦				
٨ درجات		المجموع			

نهاية نموذج الإجابة