



امتحان الصف الخامس الأساسي

للعام الدراسي ١٤٣٥/١٤٣٦ - ٢٠١٤/٢٠١٥ م

الفصل الدراسي الثاني - الدور الأول

* عدد الصفحات : (٤) ورقات

• المادة : الدراسات الاجتماعية

* الإجابة في الورقة نفسها

• زمن الإجابة: ساعة ونصف

		اسم الطالب
الشعبة		المدرسة

(التوقيع بالاسم)		الدرجة بالحروف (بالأحمر)	الدرجة بالأرقام بالأحمر	الصف
المدقق (بالأخضر)	المصحح (بالأحمر)			
				١
				٢
				٣
				٤
				٥
	مراجعة الجمع والتشطيب (بالأزرق)	جمعه (بالأحمر)		المجموع الكلي

يعتمد ،،،

المعلم الأول

أجب عن جميع الأسئلة الآتية:

[١٦ درجة]

السؤال الأول: اختر الحرف الدال على الإجابة الصحيحة من بين البدائل المعطاة :

١. بلغ عدد الخلفاء الذين حكموا الدولة الأموية :

د - ١٦

ج - ١٥

ب - ١٤

أ - ١٣



٢. اسم المعلم الموضح في الصورة المقابلة :

ب - مسجد قبة الصخرة

أ - المسجد الأموي

د - المسجد النبوي

ج - مسجد عقبة بن نافع

٣. يسمى الديوان المختص بتدقيق الحسابات المالية في الدولة العباسية:

د - الزمام

ج - قاضي القضاة

ب - الجند

أ - المظالم

٤. من أنواع الطاقة المتجددة:

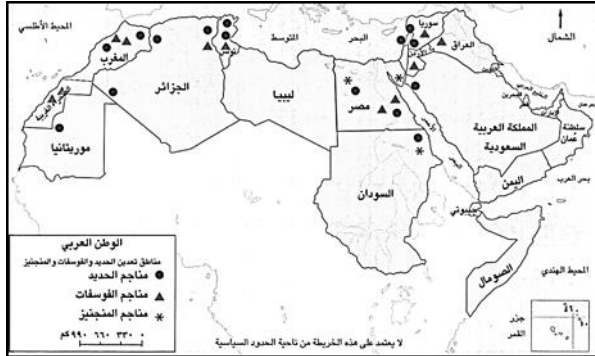
د - الفحم

ج - الغاز الطبيعي

ب - النفط

أ - الرياح

٥. من الدول العربية المنتجة للفوسفات كما توضحه الخريطة المقابلة :



ب - الصومال

أ - الكويت

د - اليمن

ج - المغرب


٦. يتركز سكان الوطن العربي في مناطق:

د - الهضاب

ج - الصحاري

ب - السهول

أ - الجبال



٧. يقع المعلم الأثري الموضح في الصورة المقابلة في دولة:

ب - الأردن

أ - سوريا

د - مصر

ج - العراق

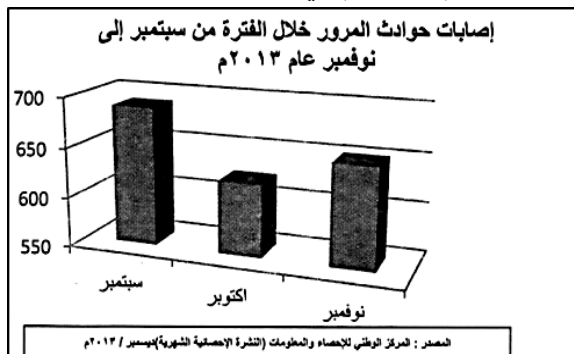
٨. من خلال الشكل المقابل تكثر إصابات حوادث المرور عام ٢٠١٣ م في شهر :

ب - أكتوبر

أ - سبتمبر

د - ديسمبر

ج - نوفمبر



تابع : امتحان نهاية الفصل الدراسي الثاني- الدور الأول- العام الدراسي ٢٠١٤/٢٠١٥ م.
المادة : الدراسات الاجتماعية

[٨ درجات]

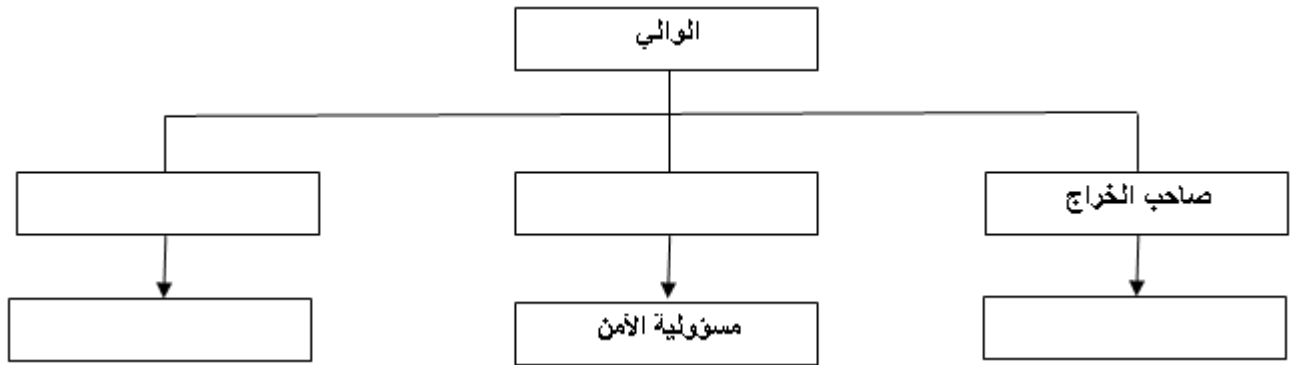
السؤال الثاني : أجب عن الأسئلة الآتية :

أولاً:

(أ) عرف المؤسسة.

(ب) اذكر اثنين من البلدان التي تشكل المغرب العربي حالياً .

ثانياً: أكمل المخطط الآتي والذي يمثل النظام الإداري للدولة الأموية:



ثالثاً:

(أ) أكمل المعادلة الآتية:

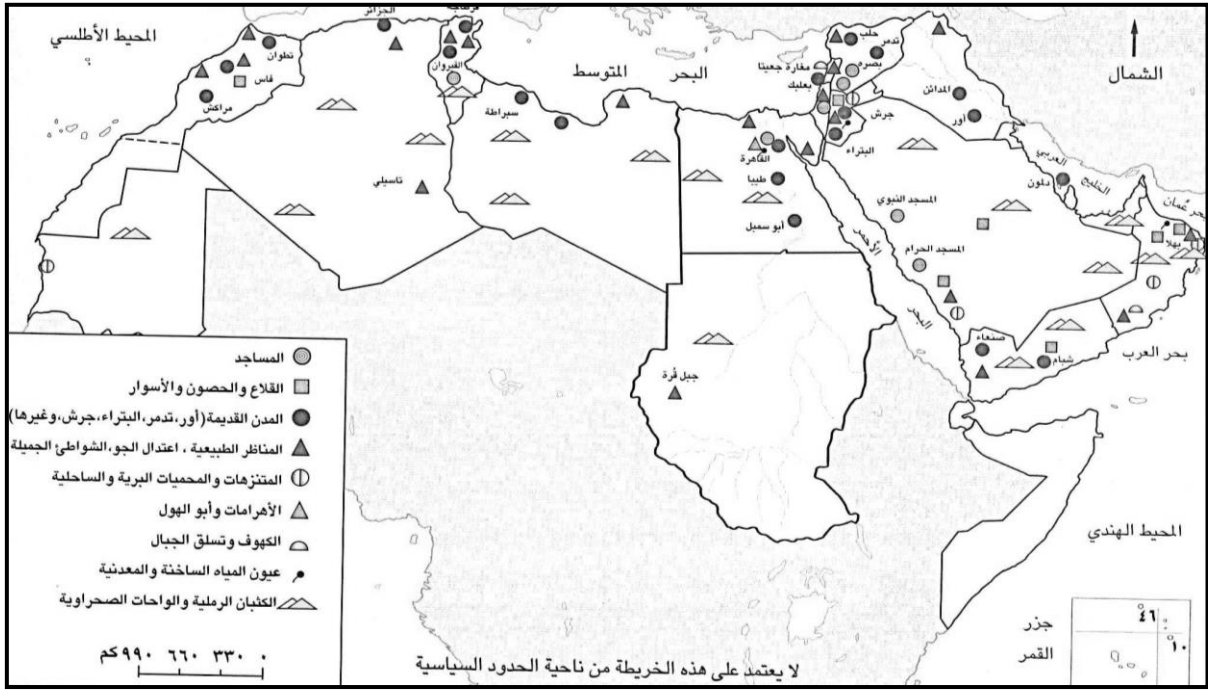
الكثافة السكانية =

المساحة الكلية للمنطقة (كم^٢)

(ب) المركز الذي يحتله الوطن العربي في احتياطي النفط على مستوى العالم: □ الأول □ الثاني (اختر الصحيح)

[٨ درجات]

السؤال الثالث: أجب عن الأسئلة الآتية :
أولاً: ادرس الخريطة الآتية ثم أجب عن الأسئلة التي تليها:

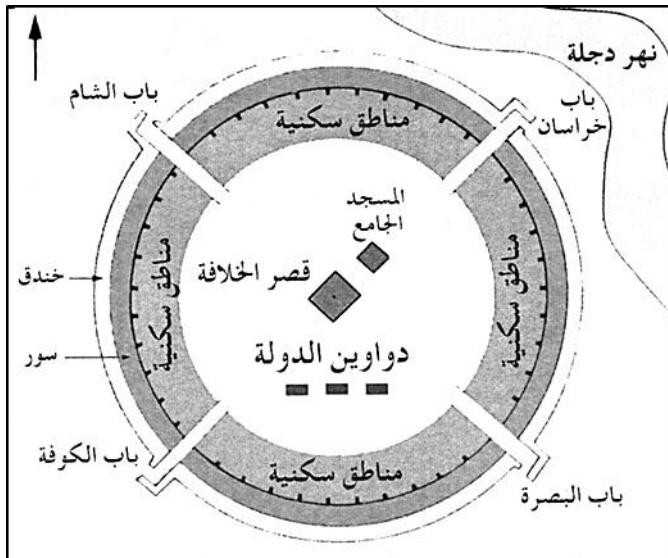


- ١- ظلل على الخريطة موقع سلطنة عمان.
- ٢- استخرج من الخريطة اثنين من المدن القديمة الموجودة في اليمن.

٣- وضح دلالة الرموز الآتية:



ثانياً أمامك مخططاً لإحدى المدن العربية في العصر العباسي ادرسه جيداً ثم اجب عن الأسئلة الآتية:



١- ما المدينة التي يوضحها المخطط الذي أمامك؟

٢- كم عدد أبواب هذه المدينة؟

٣- الجهة التي يقع بها باب خراسان:

□ شمال شرق □ شمال غرب (اختر الصحيح)

٤- رتب المواقع الآتية حسب قربها من المسجد الجامع:


(السور- الخندق- المناطق السكنية- النهر)

تابع : امتحان نهاية الفصل الدراسي الثاني- الدور الأول - العام الدراسي ٢٠١٤/٢٠١٥ م.
المادة : الدراسات الاجتماعية


[٨ درجات]

السؤال الرابع : أجب عن الأسئلة الآتية :
أولاً:

(أ) الشكلان أمامك يوضحان طرق توليد الكهرباء، ادرسهما جيدا ثم اجب عن الأسئلة التي تليهما:



الشكل (٢)



الشكل (١)

١ - اكتب ما تشير إليه الرموز الآتية:

أ) _____

ب) _____

٢- الشكل الذي يشير إلى الطرق المتبعة لتوليد الكهرباء في سلطنة عمان _____

ثانياً: انظر إلى الصورة المقابلة ثم أجب عن الأسئلة الآتية:

١- ماذا تعني هذه الإشارة؟ _____

٢- ما التصرف الصحيح إذا رأيت هذه الإشارة في أحد مواقف السيارات؟ _____

٣- ما الوزارة التي تعمل على رعاية وتأهيل الفئة المشار إليها في الصورة؟ _____

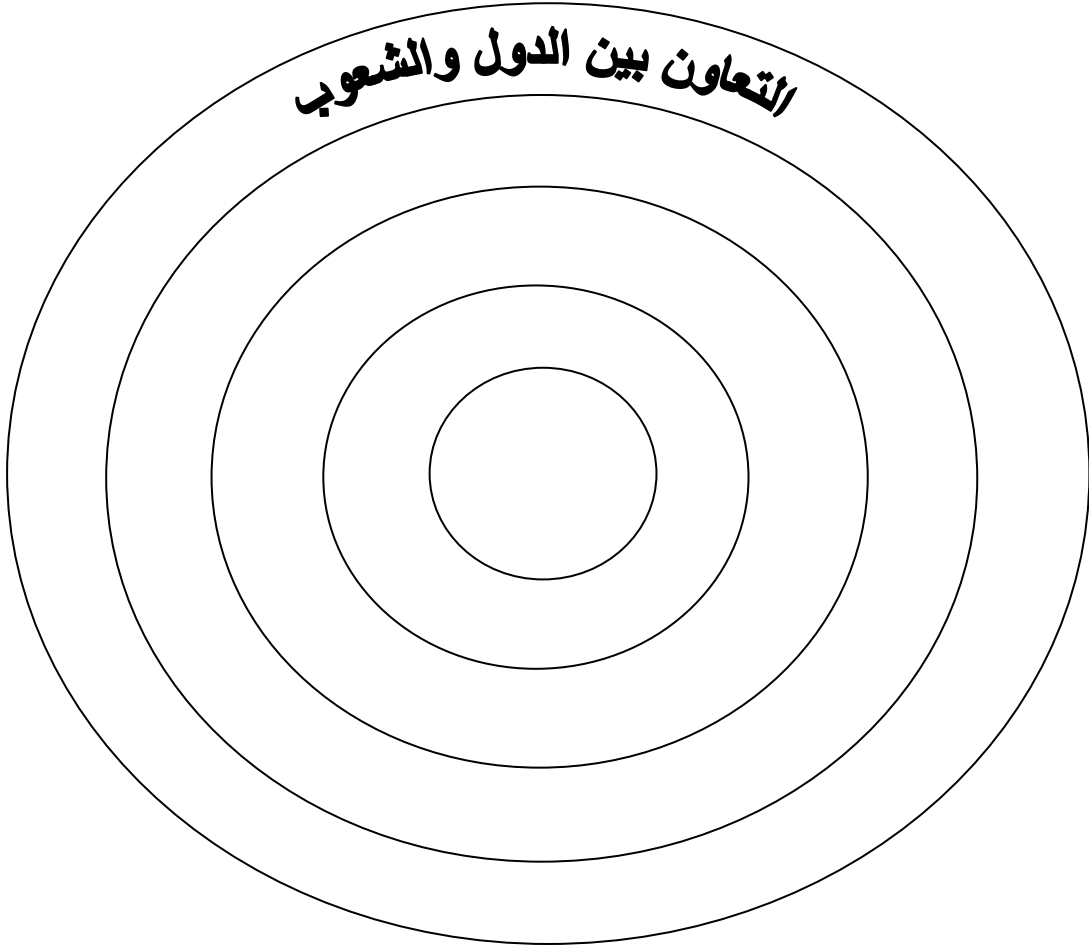


تابع : امتحان نهاية الفصل الدراسي الثاني - الدور الأول - العام الدراسي ٢٠١٤/٢٠١٥ م.
المادة : الدراسات الاجتماعية

تابع : السؤال الرابع :
ثالثاً: اكتب العبارات الآتية حسب ما يناسبها في الشكل الآتي:

- التعاون بين الجيران وأهل الحي.
- التعاون بين الأمة الإسلامية.
- التعاون بين أفراد الأسرة والأقارب.
- التعاون بين جميع المواطنين.

التعاون بين الدول والشعوب



انتهت الأسئلة مع تمنياتنا لكم بالتوفيق والنجاح



المديرية العامة للتربية والتعليم لمحافظة البريمي
نموذج إجابة امتحان الصف الخامس الأساسي
للعام الدراسي ١٤٣٥/١٤٣٦ هـ - ٢٠١٤/٢٠١٥ م
الفصل الدراسي الثاني - الدور الأول

المادة: الدراسات الاجتماعية
الدرجة الكلية: (٤٠) درجة
تنبيه: نموذج الإجابة في (٤) صفحات

أولاً: إجابة السؤال الموضوعي:-

الدرجة الكلية: (١٦) درجة			إجابة السؤال الأول		
ملاحظات	الصفحة	الدرجة	الإجابة	البديل الصحيح	المفردة
	١٠	٢	١٤	ب	١
	٢٢	٢	المسجد الأموي	أ	٢
	٢٨	٢	الزمام	د	٣
	٦٦	٢	الرياح	أ	٤
	٦٢	٢	المغرب	ج	٥
	٤٦	٢	السهول	ب	٦
	٧٣	٢	مصر	د	٧
	٩٢	٢	سبتمبر	أ	٨
					٩
					١٠
					١١
					١٢
					١٣
					١٤
			المجموع		

تابع نموذج إجابة امتحان الصف الخامس الأساسي
للعام الدراسي ١٤٣٥/١٤٣٦ هـ - ٢٠١٤/٢٠١٥ م
الفصل الدراسي الثاني - الدور الأول
المادة: الدراسات الاجتماعية

ثانياً: إجابة الأسئلة المقالية:-

إجابة السؤال الثاني				
الدرجة الكلية : (٨) درجات				
الجزئية	المفردة	الإجابة الصحيحة	الدرجة	الصفحة
أولاً	أ	المؤسسة: مجموعة من الأفراد يؤدون أعمالاً ضمن قواعد وقوانين محددة.	٢	٨٨
	٢	- ليبيا- تونس- الجزائر- المغرب. (يكتفى بذكر اثنين)	٢ لكل مفردة درجة واحدة	١٥
ثانياً			٢	٣٤
ثالثاً	أ	كثافة السكانية = $\frac{\text{جملة عدد السكان في منطقة ما (نسمة)}}{\text{المساحة الكلية للمنطقة (كم}^2)}$	١	٤٦
	ب	الأول	١	٦٨

تابع نموذج إجابة امتحان الصف الخامس الاساسي
للعام الدراسي ١٤٣٥/١٤٣٦ هـ - ٢٠١٤/٢٠١٥ م
الفصل الدراسي الثاني- الدور الأول
المادة: الدراسات الاجتماعية

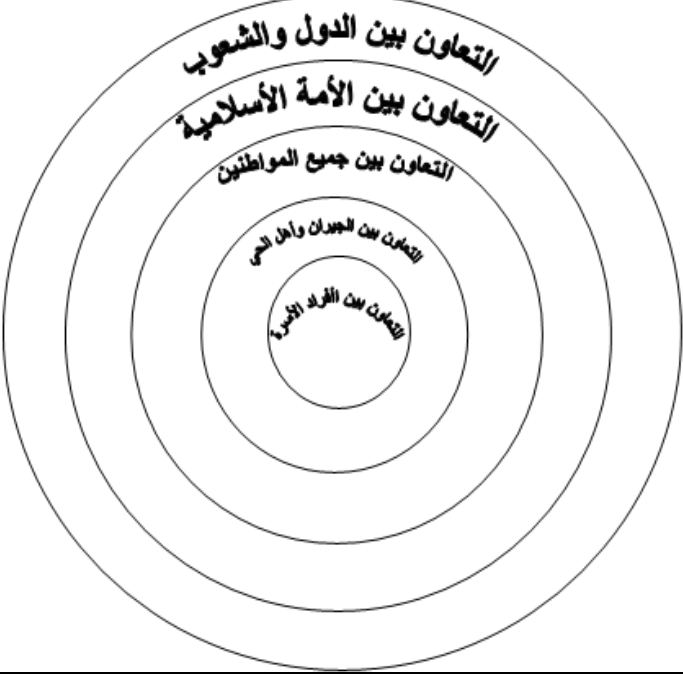
: إجابة الأسئلة المقالية:-
اجابة السؤال الثالث:

الدرجة الكلية: (٨) درجات				إجابة السؤال الثالث	
ملاحظات	الصفحة	الدرجة	الإجابة الصحيحة	المفردة	الجزئية
	٧٢	١	يظل الطالب موقع السلطنة على الخريطة.	١	أولاً
	٧٢	١	شيام - صنعاء	٢	
	٧٢	١ لكل مفردة نصف درجة	 القلاع والحصون والأسوار.  الكثبان الرملية والواحات الصحراوية.	٣	
	٣٠	١	بغداد.	١	ثانياً
	٣٠	١	أربعة أبواب.	٢	
	٣٠	١	شمال شرق.	٣	
	٣٠	٢ لكل مفردة نصف درجة	المناطق السكنية - السور - الخندق - النهر.	٤	

تابع نموذج إجابة امتحان الصف الخامس الأساسي
للعام الدراسي ١٤٣٥/١٤٣٦ هـ - ٢٠١٤/٢٠١٥ م
الفصل الدراسي الثاني - الدور الأول
المادة: الدراسات الاجتماعية

تابع ثانياً: إجابة الأسئلة المقالية:-

إجابة السؤال الرابع					
الدرجة الكلية: (٨) درجات					
الجزئية	المفردة	الإجابة الصحيحة	الدرجة	الصفحة	ملاحظات
أولاً	أ	١ (أ) محرك يدار بالماء.	١	٦٩	
		١ (ب) المولد الكهربائي.	١	٦٩	
	٢	الشكل (١)	١	٦٩	
ثانياً	١	الصورة تعني أن المكان مخصص للمعاقين لتسهيل استخدامهم للمرافق العامة.	١	٩٢	
	٢	إذا رأيتُ هذه الإشارة في مواقف السيارات لا أقف في ذلك الموقف حتى تسهل حركة الأشخاص المعاقين.	١	٩٢	
	٣	وزارة التنمية الاجتماعية.	١	٩٠	

الجزئية	المفردة	الإجابة الصحيحة	الدرجة	الصفحة	ملاحظات
ثالثاً			٢ لكل مفردة درجة واحدة	٧٨	

نهاية نموذج الإجابة