



سلطنة عُمان
وزارة التربية والتعليم
المديرية العامة للتربية والتعليم بمحافظة الداخلية

امتحان الصف الخامس

للعام الدراسي ١٤٣٦/١٤٣٧هـ - ٢٠١٥/٢٠١٦م

الفصل الدراسي الأول - الدور الثاني

- المادة : الدراسات الاجتماعية
- عدد الصفحات : ٤ صفحات
- زمن الإجابة : ساعة ونصف
- * الإجابة في الورقة نفسها

اسم الطالب	
المدرسة	الشعبة

السؤال	الدرجة بالأرقام بالأحمر	الدرجة بالحروف بالأحمر	(التوقيع بالاسم)	
			المصحح (بالأحمر)	المصحح (بالأخضر)
1				
2				
3				
4				
5				
6				
المجموع الكلي		جمعه (بالأحمر)	مراجعة الجمع والتشطيب (بالأزرق)	


يعتمد ،،،

المعلم الأول

السؤال الأول: -اختر الإجابة الصحيحة من البدائل المعطاة لك بوضع دائرة حول رمز الإجابة الصحيحة:-

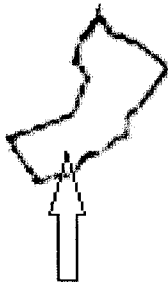
١٦

- ١- تقع الهضاب الصحراوية التي يستخرج منها النفط في سلطنة عمان في محافظة :-
 أ- الشرقية
 ب- الداخلية
 ج- الوسطى
 د- الظاهرة



- ٢- يمثل الشكل الموضح في الصورة أحد أشكال الدالات النهرية:-
 أ- أرجل الطائر
 ب- مجرى نهري
 ج- المتلثي
 د- منعطف نهري

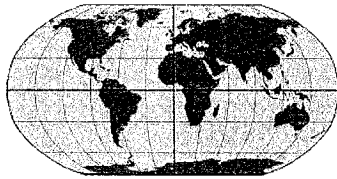
- ٣- المفهوم الذي يشير الي فقدان التربة لخصوبتها بسبب كثرة استخدامها في الزراعة :-
 أ-الانجراف
 ب- تدهور الخصوبة
 ج-الملوحة
 د- التصحر



- ٤- المناخ الذي يظهر في المنطقة المشار اليها بالسهم من سلطنة عمان :-
 أ- الاستوائي
 ب-الموسمي
 ج- البحر المتوسط
 د- الصحراوي

- ٥- المنطقة العربية التي سيطرت عليها الامبراطورية الفارسية :-
 أ- العراق
 ب-شمال أفريقيا
 ج- بلاد الشام
 د- مصر

- ٦- من الامصار الاسلامية التي أنشئت في (مصر) في عهد الخلفاء الراشدين :-
 أ- الكوفة
 ب- البصرة
 ج- الاسكندرية
 د- الفسطاط



- ٧- الخط الذي ستمر به طالبة الصف الخامس في رحلتها من دولتها سلطنة عمان الى دولة المغرب :-
 أ- الاستواء
 ب- السرطان
 ج-الجدي
 د-غرينتش

٨- الشهر الذي سقطت فيه أقصى كمية من الامطار في (قيرون حيريتي) بمحافظة ظفار من خلال الجدول التالي :-

الشهر	يناير	فبراير	مارس	ابريل	مايو	يونيو	يوليو	أغسطس	سبتمبر	أكتوبر	نوفمبر	ديسمبر
درجات الحرارة (س)	١٧	١٨	٢١	٢٤	٢٦	٢٥	٢٢	٢١	٢٢	٢٣	٢١	١٨
الأمطار (ملم)	١	٢	١٣	٦	-	٢٢	٩٤	٧٠	١٦	٣	٩	٨

- أ- يونيو
 ج- أغسطس
 ب- يوليو
 د- سبتمبر

٨

السؤال الثاني:-

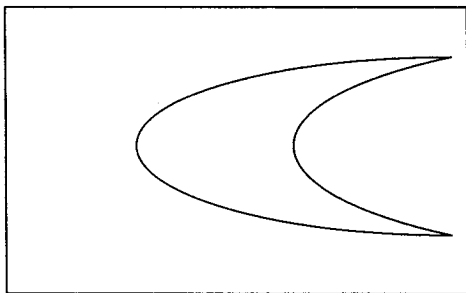
أولا (أمامك مجموعة من المشاكل التي يعاني منها الوطن العربي. ضع رمز الحل المناسب أمام المشكلة داخل المربع المقابل لها :-

- | | | |
|-------------------------------------|--------------------------|---|
| ١- زحف الرمال على القرى والمزارع | <input type="checkbox"/> | أ- إقامة السدود الكبرى |
| ٢- العجز في الموارد المائية | <input type="checkbox"/> | ب- تطوير شبكة الطرق |
| ٣- صعوبة إتصال القرى الجبلية بالمدن | <input type="checkbox"/> | ج- زراعة أشجار طويلة |
| ٤- الفيضانات على الأنهار الرئيسية | <input type="checkbox"/> | د- ظهور عدد من المدن الجديدة في الصحراء |
| | | ل- معالجة مياه الصرف الصحي لأغراض الري |

ثانيا (أكمل الفراغ في المسطرة الزمنية بما هو مناسب:-

٩ هجري	٣ هجري
↓	↓	↓	↓
.....	غزوة مؤتة	صلح الحديبية

ثالثا (أنظر في الرسم التوضيحي الذي أمامك والذي يوضح أحد الأشكال الرملية ثم أجب عن الأسئلة التي تلية :-



١- ما اسم الشكل في الرسم التوضيحي ؟

٢- وضح بالرسم على الشكل اتجاه الرياح .

٨

السؤال الثالث:-

أولا (عرف ما يلي :-

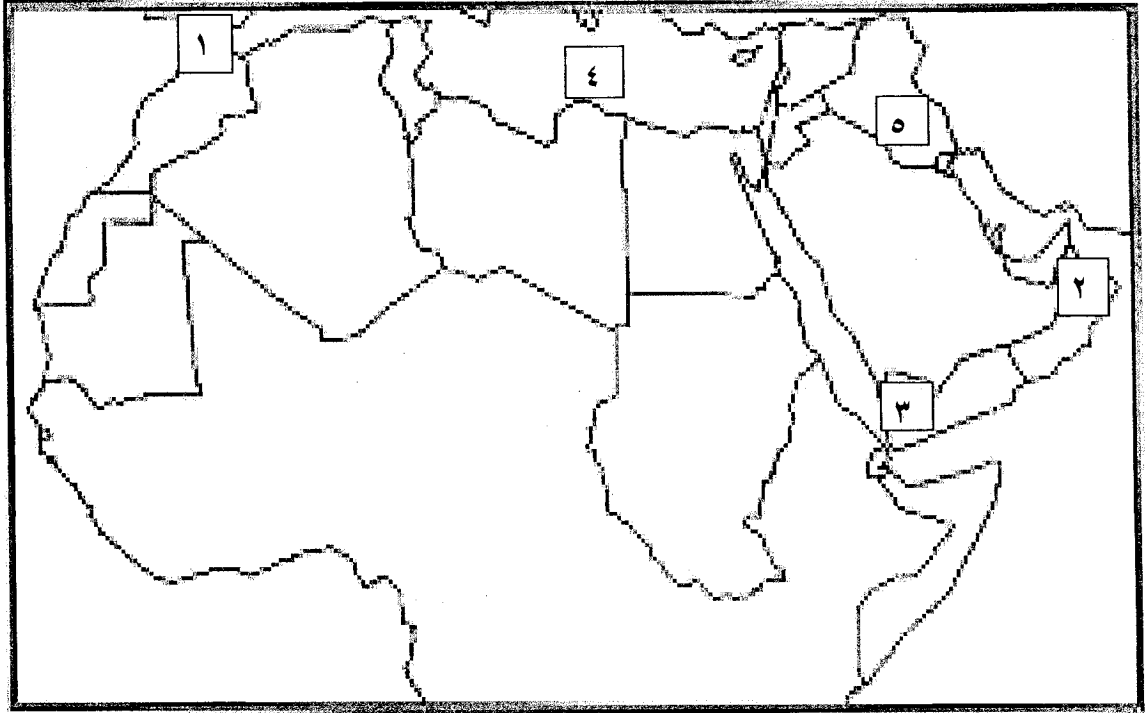
- ١- الطقس.....
- ٢- التربة.....

ثانياً () صنف المعلومات التالية عن الامبراطورية الفارسية والامبراطورية الرومانية حسب ما يناسب كلا منهما في الجدول :-

- ١- يلقب الملك كسرى
- ٢- المجتمع طبقي يبدأ بالأغنياء ثم التجار والصناع والفلاحون
- ٣- يلقب الملك قيصر
- ٤- انتشرت بينهم الديانة المجوسية

الامبراطورية الرومانية	الامبراطورية الفارسية

ثالثاً () ادرس الخريطة التي أمامك ثم أجب عن الاسئلة التي تليها :-



١- استخراج من الخريطة الأرقام التي تدل على الظاهرات التالية وضعها داخل المستطيل :-

- ١- سلسلة جبال حجر عمان
- ٢- مضيق جبل طارق
- ٣- البحر المتوسط
- ٤- هضبة اليمن

٢- اكتب على الخريطة دولة (الجزائر - السودان) في مكانها الصحيح

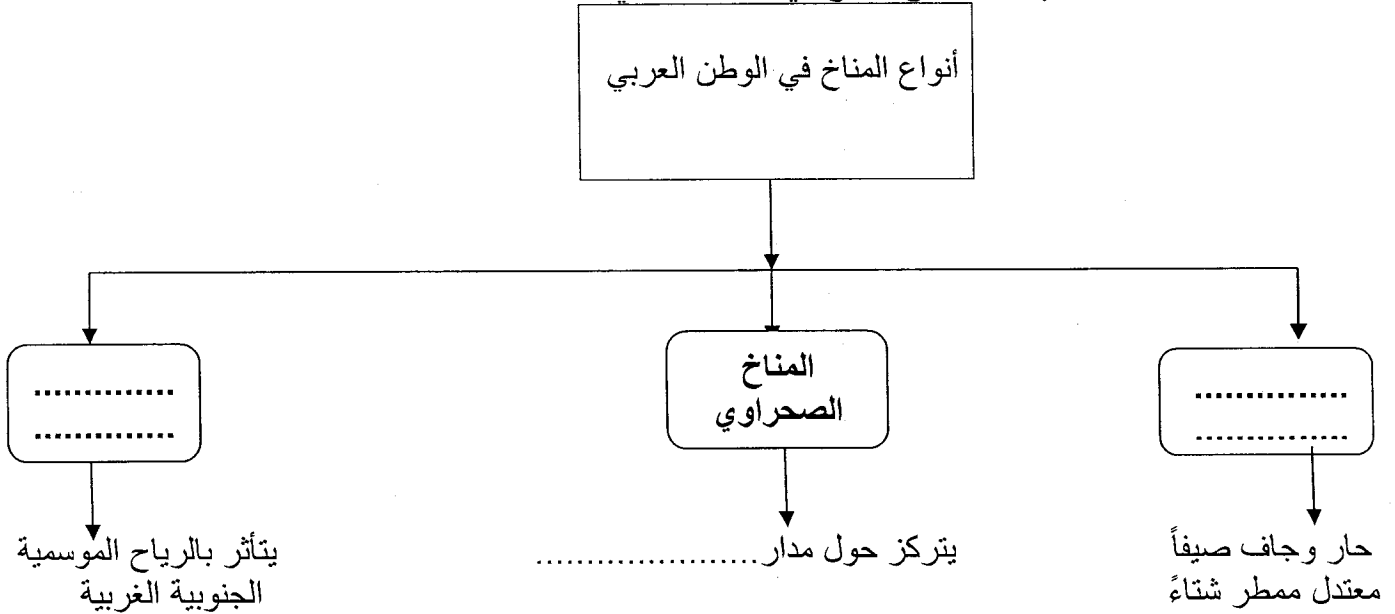
٣- علل (الدولة المشار إليها بالرقم (٥) لا تعاني من مشكلة العجز المائي).

السؤال الرابع :-

أولاً- قارن بين حياة البدو والحضر في الجدول الآتي من حيث :-

وجه المقارنه	البدو	الحضر
المسكن		
النظام السياسي والاداري		
المهنة		

ثانياً- الذي يمثل أنواع المناخ في الوطن العربي بما يناسبه :-



ثالثاً (أذكر إثنين من :-

أ- مناطق الكثبان الرملية في سلطنة عمان .

.....*

.....*

ب- الدواوين التي أنشأها الخليفة عمر بن الخطاب .

.....*

.....*

انتهت الاسئلة

وفقكم الله وسدد خطاكم



سلطنة عمان
وزارة التربية والتعليم
المديرية العامة للتربية والتعليم لمحافظة الداخلية
نموذج إجابة امتحان الصف :- الخامس.

• المادة : الدراسات الاجتماعية


• الدرجة الكلية (٤٠)

تنبيه : نموذج الإجابة في (٣) صفحات

إجابة السؤال الاول :- ١٦ درجة

رقم المفردة	١	٢	٣	٤	٥	٦	٧	٨
رمز الإجابة	ج	أ	ب	ب	أ	د	د	ب
الإجابة	محافظة الظاهرة	أرجل الطائر	تدهور الخصوبة	الموسمي	العراق	الفسطاط	غرينتش	يوليو
الدرجة	٢	٢	٢	٢	٢	٢	٢	٢
الصفحة	٣١	٢٤	٦١	٥١	٧٦	٩٦	١١	٥٢

السؤال	الجزئية	الإجابة الصحيحة	الدرجة	الصفحة
الثاني (٨) درجات	أولا	١	ج	٣٩
		٢	هـ	٥٧
		٣	ب	٢٩
		٤	أ	٥٥

الصفحة	الدرجة	الإجابة الصحيحة	الجزئية	السؤال										
٨٨ ٩٠ ٩١ ٩٢	٢ لكل نصف درجة	غزوة أحد ٦ هجري ٨ هجري عام الوفود	ثانيا	تابع السؤال الثاني										
٣٧	١ ١	١- الكتبان الرملية الهلالية ٢- 	ثالثا											
٧٦ ٧٨ ٧٩	٢ لكل نصف درجة	<table border="1"> <tr> <td>الامبراطورية الرومانية</td> <td>الامبراطورية الفارسية</td> </tr> <tr> <td>يلقب الملك قيصر</td> <td>يلقب الملك كسرى</td> </tr> <tr> <td>المجتمع طبقي يبدأ</td> <td>انتشرت بينهم الديانة</td> </tr> <tr> <td>بالاغنياء ثم التجار والصناع</td> <td>المجوسية</td> </tr> <tr> <td>والفلاحون</td> <td></td> </tr> </table>	الامبراطورية الرومانية	الامبراطورية الفارسية	يلقب الملك قيصر	يلقب الملك كسرى	المجتمع طبقي يبدأ	انتشرت بينهم الديانة	بالاغنياء ثم التجار والصناع	المجوسية	والفلاحون		أولا	السؤال الثالث (٨) درجات
الامبراطورية الرومانية	الامبراطورية الفارسية													
يلقب الملك قيصر	يلقب الملك كسرى													
المجتمع طبقي يبدأ	انتشرت بينهم الديانة													
بالاغنياء ثم التجار والصناع	المجوسية													
والفلاحون														
٤١	١	١- الطقس :- حالة الجو لفترة زمنية قصيرة لا تتجاوز عدة أيام فقط	ثانيا											
٢٠	١	٢- الجروف الصخرية:- جبال صخرية عالية أما قريبة من البحر أو ملاصقة له												

الصفحة	الدرجة	الإجابة الصحيحة	الجزئية	السؤال
٢٧	٢ لكل	١-٢	ثالثا	تابع السؤال الثالث
١٦	نصف	١-٢		
١٦	درجة	٤-٣		
٣١	درجة	٣-٤		
١٣	درجة لكل نصف	٢- كتابة الدول (السودان - الجزائر) في الموقع الصحيح		
٥٦	درجة	٣- بسبب وجود نهري دجلة والفرات		
٦٨	٣ لكل		أولا	السؤال الرابع (٨) درجات
٧٠	نصف			
٧٢	درجة			
٤١	١	١- مناخ البحر المتوسط	ثانيا	
٤٦	١	٢- مدار السرطان		
٥١	١	٣- المناخ الموسمي		
٣٥	٢ لكل	أ- الربع الخالي - رمال المنطقة الشرقية - رمال آل وهيبه (يكتفى باثنين)	ثالثا	
٩٧	نصف درجة	ب- ديوان الجند - ديوان الخراج		